



Staff Selection Commission
(Government Of India)

REGISTRATION NUMBER :
EXAM DATE : 6-March-2018
EXAM NAME : SSC Examination
TOTAL MARKS : 200

SSC CHSL 2017 - 6 March - 3rd Shift

CANDIDATE NAME :
EXAM START TIME : 16:30:00
EXAM DURATION : 01:00 Hrs
TOTAL NO OF QUESTIONS : 100

QID : 201 - In the following question, some part of the sentence may have errors. Find out which part of the sentence has an error and select the appropriate option. If a sentence is free from error, select 'No Error'.

The first and decisive step (1)/ in the expansion of Europe overseas (2)/ was the conquest of Atlantic Ocean. (3)/ No error (4)

Options:

- 1) 1
- 2) 2
- 3) 3
- 4) 4

Correct Answer: 3

Candidate Answer: 4

QID : 202 - In the following question, some part of the sentence may have errors. Find out which part of the sentence has an error and select the appropriate option. If a sentence is free from error, select 'No Error'.

The word 'Macabre' had been gained its significance from its (1)/ use in French as la danse macabre for the allegorical (2)/ representation of the universal power of death. (3)/ No error (4)

Options:

- 1) 1
- 2) 2
- 3) 3
- 4) 4

Correct Answer: 1

Candidate Answer: 1

QID : 203 - In the following question, the sentence given with blank to be filled in with an appropriate word. Select the correct alternative out of the four and indicate it by selecting the appropriate option.

She was chatting _____ the cars.

Options:

- 1) of
- 2) about
- 3) with
- 4) on

Correct Answer: about

Candidate Answer: about

QID : 204 - In the following question, the sentence given with blank to be filled in with an appropriate word. Select the correct alternative out of the four and indicate it by selecting the appropriate option.

Success is achieved twice, once in the mind and the second time in the _____ world.

Options:

- 1) real
- 2) virtual
- 3) fantasy
- 4) artificial

Correct Answer: real

Candidate Answer: real

QID : 205 - In the following question, out of the given four alternatives, select the one which best expresses the meaning of the given word.

Naive

Options:

- 1) Sarcastic
- 2) Artful
- 3) Skeptical
- 4) Ingenuous

Correct Answer: Ingenuous
Candidate Answer: Ingenuous

QID : 206 - In the following question, out of the given four alternatives, select the one which best expresses the meaning of the given word.

Surly

Options:

- 1) Sweet
- 2) Unfriendly
- 3) Clear
- 4) Pleasant

Correct Answer: Unfriendly

Candidate Answer: Clear

QID : 207 - In the following question, out of the given four alternatives, select the one which is opposite in meaning of the given word.

Myopic

Options:

- 1) Blind
- 2) Biased
- 3) Careless
- 4) Farsighted

Correct Answer: Farsighted

Candidate Answer: Farsighted

QID : 208 - In the following question, out of the given four alternatives, select the one which is opposite in meaning of the given word.

Defile

Options:

- 1) Pollute
- 2) Abuse
- 3) Shame
- 4) Honour

Correct Answer: Honour

Candidate Answer: Honour

QID : 209 - Rearrange the parts of the sentence in correct order.

Attempts in India

P : honesty and more by blind faith

Q : by the government to validate traditional

R : medicine are driven less by

Options:

- 1) QPR
- 2) RPQ
- 3) QRP
- 4) RQP

Correct Answer: QRP

Candidate Answer: QRP

QID : 210 - A sentence has been given in Active/Passive Voice. Out of the four given alternatives, select the one which best expresses the same sentence in Passive/Active Voice.

The officer cuts down the tree.

Options:

- 1) The tree is cut down by the officer.
- 2) The tree got cut down by the officer.
- 3) The tree is cut by the officer.
- 4) The tree cut by the officer.

Correct Answer: The tree is cut down by the officer.

Candidate Answer: The tree is cut down by the officer.

QID : 211 - A sentence has been given in Direct/Indirect Speech. Out of the four given alternatives, select the one which best expresses the same sentence in Indirect/Direct Speech.

Raj said, "I am happy to be here this evening."

Options:

- 1) Raj said that he was happy to be there that evening.
- 2) Raj was happy to be there this evening.
- 3) Raj said he was happy to be there this evening.
- 4) Raj says he is happy to be there.

Correct Answer: Raj said that he was happy to be there that evening.

Candidate Answer: Raj said that he was happy to be there that evening.

QID : 212 - In the following question, a word has been written in four different ways out of which only one is correctly spelt. Select the correctly spelt word.

Options:

- 1) Glamerous
- 2) Glamrouis
- 3) Glamorous
- 4) Gleamorous

Correct Answer: Glamorous

Candidate Answer: Glamerous

QID : 213 - In the following passage, some of the words have been left out. Read the passage carefully and select the correct answer for the given blank out of the four alternatives.

The most powerful and the most perfect _____ of thought and feeling through the medium of oral language must be traced to the mastery of words. _____ is better suited to lead speakers and readers _____ English into an easy control of this language than the command of the phrase that perfectly expresses the thought. Every speaker's aim is to be heard and _____. A clear, crisp _____ holds an audience as by the spell of some irresistible power.

the most perfect _____ of thought and feeling

Options:

- 1) express
- 2) expressive
- 3) expressings
- 4) expression

Correct Answer: expression

Candidate Answer: expression

QID : 214 - In the following passage, some of the words have been left out. Read the passage carefully and select the correct answer for the given blank out of the four alternatives.

The most powerful and the most perfect _____ of thought and feeling through the medium of oral language must be traced to the mastery of words. _____ is better suited to lead speakers and readers _____ English into an easy control of this language than the command of the phrase that perfectly expresses the thought. Every speaker's aim is to be heard and _____. A clear, crisp _____ holds an audience as by the spell of some irresistible power.

mastery of words. _____ is better suited to lead

Options:

- 1) No
- 2) Not
- 3) None
- 4) Nothing

Correct Answer: Nothing

Candidate Answer: Nothing

QID : 215 - In the following passage, some of the words have been left out. Read the passage carefully and select the correct answer for the given blank out of the four alternatives.

The most powerful and the most perfect _____ of thought and feeling through the medium of oral language must be traced to the mastery of words. _____ is better suited to lead speakers and readers _____ English into an easy control of this language than the command of the phrase that perfectly expresses the thought. Every speaker's aim is to be heard and _____. A clear, crisp _____ holds an audience as by the spell of some irresistible power.

and readers _____ English into an easy

Options:

- 1) for
- 2) of
- 3) from
- 4) at

Correct Answer: of

Candidate Answer: for

QID : 216 - In the following passage, some of the words have been left out. Read the passage carefully and select the correct answer for the given blank out of the four alternatives.

The most powerful and the most perfect _____ of thought and feeling through the medium of oral language must be traced to the mastery of words. _____ is better suited to lead speakers and readers _____ English into an easy control of this language than the command of the phrase that perfectly expresses the thought. Every speaker's aim is to be heard and _____. A clear, crisp _____ holds an audience as by the spell of some irresistible power.

aim is to be heard and _____. A clear

Options:

- 1) understand
- 2) understandable
- 3) understood
- 4) understandably

Correct Answer: understood

Candidate Answer: understood

QID : 217 - In the following passage, some of the words have been left out. Read the passage carefully and select the correct answer for the given blank out of the four alternatives.

The most powerful and the most perfect _____ of thought and feeling through the medium of oral language must be traced to the mastery of words. _____ is better suited to lead speakers and readers _____ English into an easy control of this language than the command of the phrase that perfectly expresses the thought. Every speaker's aim is to be heard and _____. A clear, crisp _____ holds an audience as by the spell of some irresistible power.

crisp _____ holds an audience as

Options:

- 1) articulate
- 2) articulates
- 3) articulations
- 4) articulation

Correct Answer: articulation

Candidate Answer: articulation

QID : 218 - In the following question, out of the four alternatives, select the alternative which best expresses the meaning of the idiom/phrase.

At the top of your lungs

Options:

- 1) Be a habitual smoker.
- 2) Be breathless after an exhausting physical task.
- 3) Feel suffocated in a very crowded place.
- 4) Extremely loudly.

Correct Answer: Extremely loudly.

Candidate Answer: Be breathless after an exhausting physical task.

QID : 219 - In the following question, out of the four alternatives, select the alternative which best expresses the meaning of the idiom/phrase.

The wheels have come off

Options:

- 1) To use something so much that it wears out.
- 2) Things start to fail or go wrong, especially after a period of success.
- 3) To do a shoddy job which is destined to fail.
- 4) Make an excuse to avoid doing a task.

Correct Answer: Things start to fail or go wrong, especially after a period of success.

Candidate Answer: Things start to fail or go wrong, especially after a period of success.

QID : 220 - In the following question, out of the four alternatives, select the alternative which is the best substitute of the words/sentence.

An attractively tall, graceful, and dignified woman

Options:

- 1) Terse
- 2) Pithy
- 3) Sententious
- 4) Statuesque

Correct Answer: Statuesque

Candidate Answer: Statuesque

QID : 221 - In the following question, out of the four alternatives, select the alternative which is the best substitute of the words/sentence.

The return of someone to his own country

Options:

- 1) Repatriation
- 2) Migrate
- 3) Emigrate
- 4) Immigrate

Correct Answer: Repatriation

Candidate Answer: Immigrate

QID : 222 - In the following question, out of the four alternatives, select the alternative which will improve the bracketed part of the sentence. In case no improvement is needed, select "no improvement".

The doctor removed the eye patch and asked him how he (were feeling) .

Options:

- 1) was felt
- 2) has feeling
- 3) was feeling
- 4) no improvement

Correct Answer: was feeling

Candidate Answer: was feeling

QID : 223 - In the following question, out of the four alternatives, select the alternative which will improve the bracketed part of the sentence. In case no improvement is needed, select "no improvement".

It is nothing less than magic which (will transformed) tiny teeny seeds into fruits of life.

Options:

- 1) transform
- 2) transforms
- 3) transforming
- 4) no improvement

Correct Answer: transforms

Candidate Answer: transforms

QID : 224 - The question below consists of a set of labelled sentences. Out of the four options given, select the most logical order of the sentences to form a coherent paragraph.

Many a bird found

A-secure in the branches

B-safety in the trees and

C-built their nests, feeling

Options:

- 1) BAC
- 2) BCA
- 3) ACB
- 4) ABC

Correct Answer: BCA

Candidate Answer: BCA

QID : 225 - In the following question, four words are given out of which one word is correctly spelt. Select the correctly spelt word.

Options:

- 1) daclination
- 2) declineation
- 3) declination
- 4) daclineation

Correct Answer: declination

Candidate Answer: declination

QID : 226 - In the following question, select the related word pair from the given alternatives.

Start : End :: ? : ?

निम्नलिखित प्रश्न में दिए गए विकल्पों में से संबंधित शब्द युग्म को चुनिए।

आरंभ : अंत :: ? : ?

Options:

- 1) Hot : Water
गर्म : जल
- 2) Love : Care
प्रेम : देखभाल
- 3) Green : Go
हरा : जाना
- 4) Up : Down
ऊपर : नीचे

Correct Answer: Up : Down

ऊपर : नीचे

Candidate Answer: Up : Down

ऊपर : नीचे

QID : 227 - In the following question, select the related number pair from the given alternatives.

31 : 42 :: ? : ?

निम्नलिखित प्रश्न में दिए गए विकल्पों में से संबंधित संख्या युग्म को चुनिए।

31 : 42 :: ? : ?

Options:

- 1) 53 : 64
- 2) 47 : 59
- 3) 61 : 73
- 4) 44 : 34

Correct Answer: 53 : 64

Candidate Answer: 61 : 73

QID : 228 - In the following question, select the related letter/letters from the given alternatives.

FUT : JYX :: BUG : ?

निम्नलिखित प्रश्न में दिए गए विकल्पों में से संबंधित अक्षर/अक्षरों को चुनिए।

FUT : JYX :: BUG : ?

Options:

- 1) AYG
- 2) FYK
- 3) LCK
- 4) FAM

Correct Answer: FYK

Candidate Answer: FYK

QID : 229 - In the following question, select the odd word from the given alternatives.

निम्नलिखित प्रश्न में दिए गए विकल्पों में से विषम शब्द को चुनिए।

Options:

- 1) Ocean
महासागर
- 2) Sea
समुद्र
- 3) Desert
रेगिस्तान
- 4) River
नदी

Correct Answer: Desert

रेगिस्तान

Candidate Answer: Desert

रेगिस्तान

QID : 230 - In the following question, four number pairs are given. The number on left side of (-) is related to the number of the right side of (-) with some Logic/Rule/Relation. Three are similar on basis of same Logic/Rule/Relation. Select the odd one out from the given alternatives.

नीचे दिए गए प्रश्न में, चार संख्या युग्म दिए गए हैं। (-) के बायीं ओर दी संख्या (-) के दायीं ओर दी गई संख्या से तर्क/नियम से सम्बंधित है। तीन उसी एक तर्क/नियम के आधार पर समान हैं। दिए गए विकल्पों में से भिन्न को चुनिए।

Options:

- 1) 101 - 105
- 2) 103 - 107
- 3) 102 - 106
- 4) 104 - 106

Correct Answer: 104 - 106

Candidate Answer: 104 - 106

QID : 231 - In the following question, select the odd letter/letters from the given alternatives.

निम्नलिखित प्रश्न में दिए गए विकल्पों में से विषम अक्षर/अक्षरों को चुनिए।

Options:

- 1) KQW
- 2) RXD
- 3) BHN
- 4) AGL

Correct Answer: AGL

Candidate Answer: AGL

QID : 232 - From the given alternatives, according to dictionary, which word will come at the LAST position?

1. Toast
2. Torpedo
3. Tounge
4. Trickle
5. Trick

दिए गए विकल्पों में से, शब्दकोश के अनुसार, कौन सा शब्द अंतिम स्थान पर आयेगा?

1. Toast
2. Torpedo
3. Tounge
4. Trickle
5. Trick

Options:

- 1) Trick
- 2) Trickle
- 3) Tounge
- 4) Torpedo

Correct Answer: Tounge

Candidate Answer: Trickle

QID : 233 - In the following question, select the missing number from the given series.

13, 17, 19, 23, 29, ?

निम्नलिखित प्रश्न में दिए गए विकल्पों में से लुप्त अंक ज्ञात कीजिए।

13, 17, 19, 23, 29, ?

Options:

- 1) 33
- 2) 31
- 3) 35
- 4) 37

Correct Answer: 31

Candidate Answer: 33

QID : 234 - A series is given with one term missing. Select the correct alternative from the given ones that will complete the series.

UY, SV, QS, OP, ?

एक अनुक्रम दिया गया है, जिसमें से एक पद लुप्त है। दिए गए विकल्पों में से वह सही विकल्प चुनिए, जो अनुक्रम को पूरा करे।

UY, SV, QS, OP, ?

Options:

- 1) NM
- 2) ML
- 3) MM
- 4) KL

Correct Answer: MM

Candidate Answer: MM

QID : 235 - L, M, N, O and P are sitting in a line facing east. L and M are sitting together. N is sitting at north end and O is sitting at south end. P is the neighbour of M and N. Who is third from north end?

L, M, N, O तथा P एक पंक्ति में पूर्व की ओर मुख करके बैठे हैं। L तथा M एक साथ बैठे हैं। N उत्तरी छोर पर बैठा है तथा O दक्षिणी छोर पर बैठा है। P, M तथा N का पड़ोसी है। उत्तरी छोर से तीसरा कौन है?

Options:

- 1) L
- 2) O
- 3) M
- 4) P

Correct Answer: M

Candidate Answer: M

QID : 236 - From the given alternatives, select the word which CANNOT be formed using the letters of the given word.

Corporate

दिए गए विकल्पों में से वह शब्द चुनिए जो दिए गए शब्द के अक्षरों का प्रयोग करके नहीं बनाया जा सकता है।

Corporate

Options:

- 1) Poor
- 2) Rate
- 3) Cat
- 4) Prove

Correct Answer: Prove

Candidate Answer: Prove

QID : 237 - In a certain code language, "PRICE" is written as "GEKTR" . How is "VALUE" written in that code language?

एक विशिष्ट कोड भाषा में, "PRICE" को "GEKTR" लिखा जाता है। इस कोड भाषा में "VALUE" को किस प्रकार लिखा जाएगा?

Options:

- 1) FWNCX
- 2) FNWDY
- 3) DWNCY
- 4) GWNCX

Correct Answer: GWNCX

Candidate Answer: GWNCX

QID : 238 - In a certain code language, '-' represents '+', '+' represents 'x', 'x' represents '÷' and '÷' represents '-'. Find out the answer to the following question.

$$9 - 18 + 35 \times 10 \div 30 = ?$$

किसी निश्चित कोड भाषा में '-' , '+' को प्रदर्शित करता है, '+' , 'x' को प्रदर्शित करता है, 'x' , '÷' को प्रदर्शित करता है और '÷' , '-' को प्रदर्शित करता है। निम्नलिखित प्रश्न का उत्तर ज्ञात करें।

$$9 - 18 + 35 \times 10 \div 30 = ?$$

Options:

- 1) 44
- 2) 42
- 3) 40
- 4) 41

Correct Answer: 42

Candidate Answer: 42

QID : 239 - The following equation is incorrect. Which two signs should be interchanged to correct the equation?

$$20 \div 14 + 5 \times 20 - 2 = 56$$

निम्नलिखित समीकरण गलत है। इस समीकरण को सही करने के लिए किन दो चिन्हों को आपस में अदला-बदली करना चाहिए?

$$20 \div 14 + 5 \times 20 - 2 = 56$$

Options:

- 1) + and x
+ और x
- 2) ÷ and -
÷ और -
- 3) + and ÷
+ और ÷
- 4) - and +
- और +

Correct Answer: ÷ and -

÷ और -

Candidate Answer: ÷ and -

÷ और -

QID : 240 - If $16a1 = 8$, $14a6 = 42$ and $12a5 = 30$, then find the value of $2a6 = ?$

यदि $16a1 = 8$, $14a6 = 42$ और $12a5 = 30$, तो $2a6$ का मान ज्ञात करें।

Options:

- 1) 6
- 2) 18
- 3) 4
- 4) 10

Correct Answer: 6

Candidate Answer: 6

QID : 241 - Which of the following terms follows the trend of the given list?

XYZXyZxYZ, XYZXyZxYZ, XYZXyZxYZ, XYZxYZXyZ, XyZxYZXyZ, _____.

निम्नलिखित में से कौन सा पद दी गयी सूची के क्रम के अनुसार है?

XYZXyZxYZ, XYZXyZxYZ, XYZXyZxYZ, XYZxYZXyZ, XyZxYZXyZ, _____.

Options:

1) xYZXyZxYZ

2) XYZXyZxYZ

3) XyZxYZXyZ

4) XYZXyZxYZ

Correct Answer: XyZxYZXyZ

Candidate Answer: XyZxYZXyZ

QID : 242 - An insect walks 15 cm East, then it turns to its right and walks for another 20 cm. then it turns right and walks 4 cm, then it turns North and walks 20 cm, then finally it turns to its left and walks 2 cm. Where is the insect now with respect to its starting point.

एक कीट पूर्व की तरफ 15 सें.मी. चलता है, फिर वह अपने दाहिनी ओर मुड़ जाता है और फिर आगे 20 सें.मी. तक चलता है। फिर वह अपने दाहिनी तरफ मुड़ जाता है और आगे 4 सें.मी. चलता है, फिर वह उत्तर की तरफ मुड़ जाता है और आगे 20 सें.मी. चलता है, फिर अंत में वह अपनी बाईं ओर मुड़ता है और आगे 2 सें.मी. चलता है। अपने शुरुआती बिंदु के संबंध में अब वह कीट कहाँ है?

Options:

1) 9 cm East

9 सें.मी. पूर्व

2) 21 cm East

21 सें.मी. पूर्व

3) 9 cm West

9 सें.मी. पश्चिम

4) 21 cm West

21 सें.मी. पश्चिम

Correct Answer: 9 cm East

9 सें.मी. पूर्व

Candidate Answer: 9 cm East

9 सें.मी. पूर्व

QID : 243 - In the question two statements are given, followed by two conclusions, I and II. You have to consider the statements to be true even if it seems to be at variance from commonly known facts. You have to decide which of the given conclusions, if any, follows from the given statements.

Statement I: Some games are sports

Statement II: No exercise are games

Conclusion I: All sports are exercise

Conclusion II: Some exercise are sports

प्रश्न में दो कथन दिये गये हैं जिसके आगे दो निष्कर्ष I और II निकाले गये हैं। आपको मानना है कि दोनों कथन सत्य है चाहे वह सामान्यतः ज्ञात तथ्यों से भिन्न प्रतीत होते हों। आपको निर्णय करना है की दिए गए निष्कर्षों में से कौन-सा/कौन-से निश्चित रूप से कथन द्वारा सही निकाला जा सकता है/सकते हैं, यदि कोई हो।

कथन I: कुछ गेम्स स्पोर्ट्स होते हैं

कथन II: कोई भी व्यायाम गेम्स नहीं होते

निष्कर्ष I: सभी स्पोर्ट्स व्यायाम होते हैं

निष्कर्ष II: कुछ व्यायाम स्पोर्ट्स होते हैं

Options:

1) Only conclusion I follows

केवल निष्कर्ष I सही है

2) Only conclusion II follows

केवल निष्कर्ष II सही है

3) Both conclusions I and II follow

दोनों निष्कर्ष I और II सही है

4) Neither conclusion I nor conclusion II follows

ना तो निष्कर्ष I सही है ना ही निष्कर्ष II

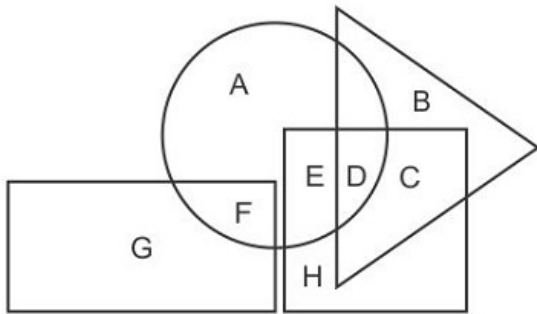
Correct Answer: Neither conclusion I nor conclusion II follows
 ना तो निष्कर्ष I सही है ना ही निष्कर्ष II

Candidate Answer: Neither conclusion I nor conclusion II follows
 ना तो निष्कर्ष I सही है ना ही निष्कर्ष II

QID : 244 -

In the following figure, rectangle represents Journalists, circle represents Art critics, triangle represents Campers and square represents Mothers. Which set of letters represents Mothers who are Campers?

निम्नलिखित आकृति में, आयत पत्रकारों को प्रदर्शित करता है, वृत्त कला आलोचकों को प्रदर्शित करता है, त्रिभुज कैम्पर्स को प्रदर्शित करता है और वर्ग माताओं को प्रदर्शित करता है। अक्षरों का कौन सा समूह उन माताओं को प्रदर्शित करता है जो कैम्पर्स हैं?



Options:

- 1) DC
- 2) BDCH
- 3) EDC
- 4) HEB

Correct Answer: DC

Candidate Answer: DC

QID : 245 - A series is given with one term missing. Select the correct alternative from the given ones that will complete the series.

ENG, GQI, ITK, KWM, ?

एक अनुक्रम दिया गया है, जिसमें से एक पद लुप्त है। दिए गए विकल्पों में से वह सही विकल्प चुनिए, जो अनुक्रम को पूरा करे।

ENG, GQI, ITK, KWM, ?

Options:

- 1) NAP
- 2) MZO
- 3) MAO
- 4) NZP

Correct Answer: MZO

Candidate Answer: MZO

QID : 246 - In the following question, select the missing number from the given series.

58, 61, 65, 70, ?, 83

निम्नलिखित प्रश्न में दिए गए विकल्पों में से लुप्त अंक ज्ञात कीजिए।

58, 61, 65, 70, ?, 83

Options:

1) 77

2) 76

3) 78

4) 75

Correct Answer: 76

Candidate Answer: 76

QID : 247 - In the following question, four groups of three numbers are given. In each group the second and third number are related to the first number by a Logic/Rule/Relation. Three are similar on basis of same Logic/Rule/Relation. Select the odd one out from the given alternatives.

नीचे दिए गए प्रश्न में, तीन संख्याओं के चार समूह दिये गए हैं। प्रत्येक समूह में दूसरी तथा तीसरी संख्या पहली संख्या से किसी एक तर्क/नियम से सम्बंधित है। तीन उसी एक तर्क/नियम के आधार पर समान हैं। दिए गए विकल्पों में से भिन्न को चुनिए।

Options:

1) (7, 14, 21)

2) (5, 12, 19)

3) (3, 10, 17)

4) (9, 16, 35)

Correct Answer: (9, 16, 35)

Candidate Answer: (9, 16, 35)

QID : 248 -

If a mirror is placed on the line MN, then which of the answer figures is the right image of the given figure?

यदि एक दर्पण को MN रेखा पर रखा जाए तो दी गयी उत्तर आकृतियों में से कौन-सी आकृति प्रश्न आकृति का सही प्रतिबिम्ब होगी?



make MY exam

Options:

1)



2)



3)



4)



Correct Answer:



Candidate Answer:

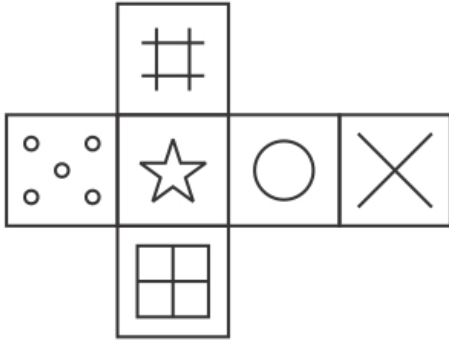


make MY exam

QID : 249 -

Which of the following cube in the answer figure cannot be made based on the unfolded cube in the question figure?

निम्नलिखित उत्तर आकृति में से कौन सा घन दिए गए प्रश्न आकृति में से खुले घन से बनाया नहीं जा सकता?



Options:

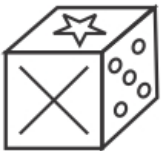
1)



2)



3)



4)



Correct Answer:



Candidate Answer:



QID : 250 -

A word is represented by only one set of numbers as given in any one of the alternatives. The sets of numbers given in the alternatives are represented by two classes of alphabets as shown in the given two matrices. The columns and rows of Matrix-I are numbered from 0 to 4 and that of Matrix-II are numbered from 5 to 9. A letter from these matrices can be represented first by its row and next by its column, for example 'F' can be represented by 41, 24 etc and 'V' can be represented by 57, 78 etc. Similarly, you have to identify the set for the word 'MOCK'.

एक शब्द केवल एक संख्या-समूह द्वारा दर्शाया गया है, जैसा कि विकल्पों में से किसी एक में दिया गया है। विकल्पों में दिए गए संख्या-समूह अक्षरों के दो वर्गों द्वारा दर्शाए गए हैं, जैसा कि दिए गए दो आव्यूहों में है। आव्यूह-I के स्तम्भ और पंक्ति की संख्या 0 से 4 और आव्यूह-II की 5 से 9 है। इन आव्यूहों से एक अक्षर को पहले उसकी पंक्ति और बाद में स्तम्भ संख्या द्वारा दर्शाया जा सकता है। उदाहरण के लिए 'F' को 41, 24 आदि द्वारा दर्शाया जा सकता है तथा 'V' को 57, 78 आदि द्वारा दर्शाया जा सकता है। इसी तरह से आपको प्रश्न में दिए शब्द 'MOCK' के लिए समूह को पहचानना है।

Matrix I आव्यूह - I						Matrix II आव्यूह - II					
	0	1	2	3	4		5	6	7	8	9
0	E	M	F	J	A	5	V	W	V	X	X
1	B	H	L	M	I	6	Y	N	O	S	O
2	K	J	C	M	F	7	Z	N	R	V	X
3	M	H	B	D	A	8	W	X	Y	W	S
4	B	F	J	G	E	9	P	Y	S	S	O

Options:

- 1) 20,86,11,65
- 2) 13,67,22,20
- 3) 12,89,12,69
- 4) 20,59,20,76

Correct Answer: 13,67,22,20

Candidate Answer: 13,67,22,20

QID : 251 - Find the square root of 1485961.

1485961 का वर्गमूल ज्ञात कीजिये।

Options:

- 1) 1213
- 2) 1219
- 3) 1229
- 4) 1239

Correct Answer: 1219

Candidate Answer: 1219

QID : 252 -

If $a^2 + b^2 = 80$ and $ab = 32$, then calculate the value of $\frac{a-b}{a+b}$.

यदि $a^2 + b^2 = 80$ और $ab = 32$, तो $\frac{a-b}{a+b}$ के मान की गणना कीजिए।

Options:

1) 0.337

2) 0.339

3) 0.333

4) 0.335

Correct Answer: 0.333

Candidate Answer: 0.333

QID : 253 -

What is the value of $(-7776)^{\frac{2}{5}}$? $(-7776)^{\frac{2}{5}}$ का मान क्या है?

Options:

1) 16

2) 36

3) 64

4) 21

Correct Answer: 36

Candidate Answer: 36

QID : 254 -

What is the value of $x^3 - \frac{1}{x^3} + 8$ when $8x - \frac{8}{x} - 16 = 0$? $x^3 - \frac{1}{x^3} + 8$ का मान क्या है, यदि $8x - \frac{8}{x} - 16 = 0$ है ?

Options:

1) 6

2) 8

3) 16

4) 22

Correct Answer: 22

Candidate Answer: 22

QID : 255 - The triangle in which the orthocenter, circumcentre, Incenter and the centroid coincide each other at a point is known as _____.

वह त्रिभुज जिसमें लम्बकेंद्र, परिकेंद्र अंतःकेंद्र और केन्द्रक चारों एक बिंदु पर मिलते हैं तो उसे _____ कहते हैं।

Options:

1) isosceles triangle

समद्विबाहु त्रिभुज

2) equilateral triangle

समभुज त्रिभुज

3) right angled triangle

समकोण त्रिभुज

4) obtuse angled triangle

अधिककोण त्रिभुज

Correct Answer: equilateral triangle

समभुज त्रिभुज

Candidate Answer: equilateral triangle

समभुज त्रिभुज

QID : 256 - If the radius of a circle is decreased to 25% of its original value, calculate the percentage decrease in the area of the circle.

यदि किसी वृत्त की त्रिज्या उसकी मूल मान से 25% तक कम हो जाती है, तो फिर वृत्त के क्षेत्रफल में प्रतिशत में कमी की गणना करें।

Options:

- 1) 25%
- 2) 43.75%
- 3) 50%
- 4) 93.75%

Correct Answer: 93.75%

Candidate Answer: 43.75%

QID : 257 - On decreasing the price of a fan by 40%, its sales increases by 50%. What will be the percentage increase or decrease in its revenue?

एक पंखे के मूल्य को 40% से कम करने पर उसकी बिक्री 50% से बढ़ जाती है। उसके राजस्व में कितने प्रतिशत की वृद्धि अथवा कमी होगी?

Options:

- 1) 15% increase
15% की वृद्धि
- 2) 15% decrease
15% की कमी
- 3) 10% decrease
10% की कमी
- 4) 10% increase
10% की वृद्धि

Correct Answer: 10% decrease

10% की कमी

Candidate Answer: [NOT ANSWERED]

QID : 258 - A sum of Rs 2489 is divided among A, B and C such that if Rs 12, Rs 12 and Rs 5 be diminish from the shares of A, B and C respectively, then their shares will be in the ratio of 5 : 3 : 4. What is the new share (in Rs) of C?

2489 रु की राशि को A, B तथा C में इस प्रकार विभाजित किया गया है कि यदि A, B तथा C के हिस्सों में से क्रमशः 12 रु, 12 रु तथा 5 रु कम कर दिए जाए, तो उनके हिस्से 5 : 3 : 4 के अनुपात में होंगे। C का नया हिस्सा (रु में) क्या है?

Options:

- 1) 750
- 2) 1060
- 3) 1475
- 4) 820

Correct Answer: 820

Candidate Answer: 820

QID : 259 - The milk and water in two vessels are in the ratio of 3 : 1 and 7 : 11 respectively. In what ratio should the liquid in both the vessels be mixed to obtain a new mixture containing half milk and half water?

दो बर्तनों में क्रमशः दूध तथा जल 3 : 1 तथा 7 : 11 के अनुपात में हैं। दोनों बर्तनों के तरलों को किस अनुपात में मिलाया जाए जिससे आधे दूध तथा आधे जल वाला एक नया मिश्रण प्राप्त हो जाए?

Options:

- 1) 5 : 7
- 2) 4 : 9
- 3) 1 : 1
- 4) 4 : 7

Correct Answer: 4 : 9

Candidate Answer: 4 : 9

QID : 260 - Average of 14 numbers is 32. If the average of last 5 numbers is 26, then what is the average of the remaining numbers?

14 संख्याओं का औसत 32 है। यदि अंतिम 5 संख्याओं का औसत 26 है, तो शेष संख्याओं का औसत क्या है?

Options:

- 1) 35.33
- 2) 41.33
- 3) 27.5
- 4) 44.5

Correct Answer: 35.33

Candidate Answer: 35.33

QID : 261 - A person borrows some money for 8 years at a rate of simple interest. If the ratio of principal and total interest is 5 : 8, then what is the rate (in percentage) of interest?

एक व्यक्ति साधारण ब्याज की दर से 8 वर्षों के लिए कुछ धनराशि उधार लेता है। यदि मूलधन तथा कुल ब्याज का अनुपात 5 : 8 है, तो ब्याज की दर (प्रतिशत में) क्या है?

Options:

- 1) 10
- 2) 20
- 3) 25
- 4) 30

Correct Answer: 20

Candidate Answer: 20

QID : 262 - Cost price of a watch is Rs 530. If the loss percentage is 24%, then what is the value (in Rs) of loss?

एक घड़ी का क्रय मूल्य 530 रु है। यदि हानि प्रतिशत 24% है, तो हानि का मान (रु में) क्या है?

Options:

- 1) 127.2
- 2) 153.2
- 3) 139.4
- 4) 114.2

Correct Answer: 127.2

Candidate Answer: 127.2

QID : 263 - Mahesh buys a watch of Rs 300 and sells it. Mahesh gives two successive discount of 15% and 6% to the buyer. What will be the selling price (in Rs) of the watch?

महेश 300 रु की एक घड़ी खरीदता है तथा उसे बेच देता है। महेश ग्राहक को 15% तथा 6% की दो क्रमिक छूट देता है। घड़ी का विक्रय मूल्य (रु में) क्या होगा?

Options:

- 1) 213.4
- 2) 242.3
- 3) 239.7
- 4) 247.4

Correct Answer: 239.7

Candidate Answer: 242.3

QID : 264 -

What is the simplified value of $\sqrt{12} - \frac{1}{\sqrt{3}}$? $\sqrt{12} - \frac{1}{\sqrt{3}}$ का सरलीकृत मान क्या है?

Options:

- 1) $5\sqrt{3}$
- 2) $5/\sqrt{3}$
- 3) $3\sqrt{5}$
- 4) $3/\sqrt{5}$

Correct Answer: $5/\sqrt{3}$ Candidate Answer: $5/\sqrt{3}$

QID : 265 - P can complete a work in 15 days and Q in 24 days. They began the work together, but Q left the work 2 days before its completion. In how many days, was the work completed?

P एक कार्य को 15 दिन तथा Q, 24 दिन में पूरा कर सकता है। उन्होंने एक साथ मिलकर कार्य करना आरंभ किया परंतु Q कार्य पूरा होने से 2 दिन पूर्व कार्य छोड़कर चला गया। कार्य को पूरा होने में कितने दिन लगे?

Options:

- 1) 12
- 2) 10
- 3) 9
- 4) 11

Correct Answer: 10

Candidate Answer: 10

QID : 266 - A bus moves at a speed of 84 km/hr after repairing and moves at a speed of 56 km/hr before repairing. It covers 2x distance in 8 hours after repairing. How much time (in hours) will it take to cover x distance before repairing?

एक बस मरम्मत कराने के पश्चात 84 कि.मी. प्रति घंटा की गति से चलती है तथा मरम्मत कराने से पहले 56 कि.मी. प्रति घंटा की गति से चलती है। मरम्मत कराने के पश्चात वह 2x दूरी को 8 घंटे में तय करती है। मरम्मत कराने से पहले x दूरी को तय करने में वह कितना समय (घंटों में) लेगी?

Options:

- 1) 8
- 2) 5
- 3) 6
- 4) 9

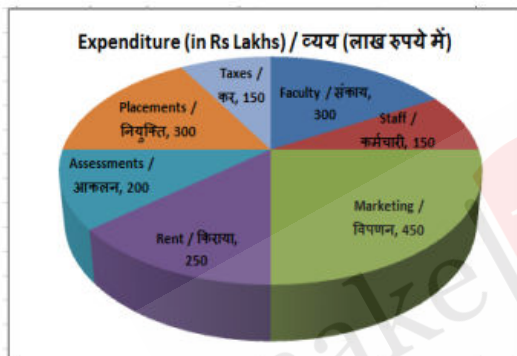
Correct Answer: 6

Candidate Answer: [NOT ANSWERED]

QID : 267 -

The pie chart shows the breakup of expenditure of a college for the year 2017. Study the diagram and answer the following questions.

यह पाइ चार्ट वर्ष 2017 के लिए एक कॉलेज के व्यय का विभाजन प्रदर्शित करता है। इस आरेख का अध्ययन करें और निम्नलिखित प्रश्नों के उत्तर दें।



The highest expenditure is for which item?

सबसे अधिक खर्च किस मद पर किया जाता है?

Options:

- 1) Rent
किराया
- 2) Marketing
विपणन
- 3) Assessments
आकलन
- 4) Placements
नियुक्ति

Correct Answer: Marketing

विपणन

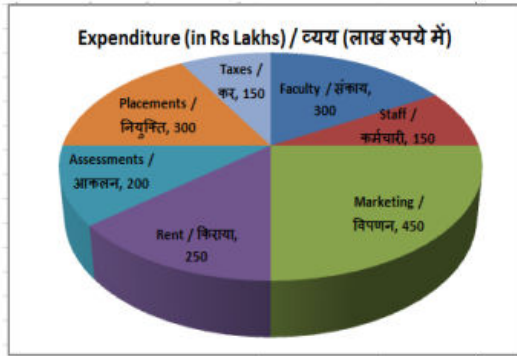
Candidate Answer: Marketing

विपणन

QID : 268 -

The pie chart shows the breakup of expenditure of a college for the year 2017. Study the diagram and answer the following questions.

यह पाइ चार्ट वर्ष 2017 के लिए एक कॉलेज के व्यय का विभाजन प्रदर्शित करता है। इस आरेख का अध्ययन करें और निम्नलिखित प्रश्नों के उत्तर दें।



What is the total expenditure (in Rs lakhs)?

कुल व्यय (लाख रु में) क्या है?

Options:

- 1) 1800
- 2) 900
- 3) 2000
- 4) 1000

Correct Answer: 1800

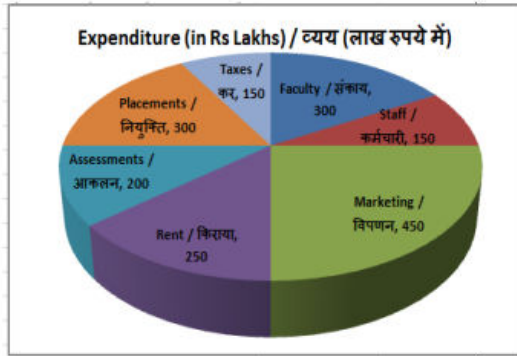
Candidate Answer: 1800

make MY exam

QID : 269 -

The pie chart shows the breakup of expenditure of a college for the year 2017. Study the diagram and answer the following questions.

यह पाइ चार्ट वर्ष 2017 के लिए एक कॉलेज के व्यय का विभाजन प्रदर्शित करता है। इस आरेख का अध्ययन करें और निम्नलिखित प्रश्नों के उत्तर दें।



The measure of the central angle of the sector representing Faculty is _____ degrees.

संकाय का प्रतिनिधित्व करने वाले क्षेत्र के केंद्रीय कोण का माप _____ डिग्री है।

Options:

- 1) 30
- 2) 45
- 3) 75
- 4) 60

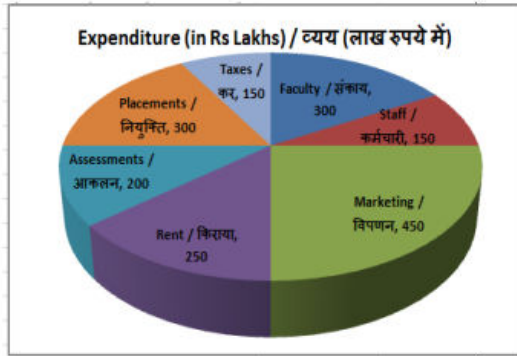
Correct Answer: 60

Candidate Answer: 60

QID : 270 -

The pie chart shows the breakup of expenditure of a college for the year 2017. Study the diagram and answer the following questions.

यह पाइ चार्ट वर्ष 2017 के लिए एक कॉलेज के व्यय का विभाजन प्रदर्शित करता है। इस आरेख का अध्ययन करें और निम्नलिखित प्रश्नों के उत्तर दें।



Expenditure on Assessments and Placements constitute what percent of total expenditure?

आकलन और नियुक्ति पर किया जाने वाला व्यय कुल व्यय का कितना प्रतिशत है?

Options:

- 1) 33.3%
- 2) 25%
- 3) 30%
- 4) 27.77%

Correct Answer: 27.77%

Candidate Answer: 27.77%

QID : 271 - The perimeter and the breadth of a rectangle are 60 cm and 14 cm respectively. Find its area (in cm^2).

एक आयत का परिमाण और चौड़ाई क्रमशः 60 सें.मी. और 14 सें.मी. है। इसका क्षेत्रफल (वर्ग सें.मी. में) ज्ञात करें।

Options:

- 1) 112
- 2) 448
- 3) 224
- 4) 336

Correct Answer: 224

Candidate Answer: 224

QID : 272 - If the perimeter of a semi-circle is 108 cm, then find its radius (in cm).

यदि एक सेमी-वृत्त की परिमाण 108 सें.मी. है, तो इसकी त्रिज्या (सें.मी. में) ज्ञात करें।

Options:

- 1) 42
- 2) 28
- 3) 56
- 4) 21

Correct Answer: 21

Candidate Answer: 21

QID : 273 - Find the volume (in cm^3) of a cube of side 7.5 cm.

7.5 सें.मी. की भुजा वाले एक घन का आयतन (घन सें.मी. में) ज्ञात करें।

Options:

- 1) 421.875
- 2) 77.145
- 3) 39.245
- 4) 24.435

Correct Answer: 421.875

Candidate Answer: 421.875

QID : 274 - What is the value of $(\cot 30^\circ + 2/\sqrt{3})$?

$(\cot 30^\circ + 2/\sqrt{3})$ का मान क्या है?

Options:

- 1) $5/\sqrt{3}$
- 2) $(1+2\sqrt{3})/2$
- 3) $5/6$
- 4) $2/\sqrt{3}$

Correct Answer: $5/\sqrt{3}$

Candidate Answer: $5/\sqrt{3}$

QID : 275 - ΔXYZ is right angled at Y. If $\tan X = 24/7$, then what is the value of $\cot Z$?

ΔXYZ में Y पर समकोण है। यदि $\tan X = 24/7$, तो $\cot Z$ का मान क्या है?

Options:

- 1) $25/7$
- 2) $24/25$
- 3) $7/24$
- 4) $24/7$

Correct Answer: $24/7$

Candidate Answer: $24/7$

QID : 276 - When the productive capacity of the economic system of state is inadequate to create sufficient number of jobs, it is called _____.

जब राज्य के आर्थिक तंत्र की उत्पादक क्षमता पर्याप्त नौकरियां सृजन करने में अक्षम होती है, तो उसे _____ कहा जाता है।

Options:

- 1) seasonal unemployment
मौसमी बेरोजगारी
- 2) structural unemployment
संरचनात्मक बेरोजगारी
- 3) disguised unemployment
प्रच्छन्न बेरोजगारी
- 4) cyclical unemployment
चक्रीय बेरोजगारी

Correct Answer: cyclical unemployment

चक्रीय बेरोजगारी

Candidate Answer: disguised unemployment

प्रच्छन्न बेरोजगारी

QID : 277 - Which of the following contributes the maximum earning in Indian Railways?

निम्नलिखित में भारतीय रेलवे में अधिकतम कमाई का योगदान कौन करता है?

Options:

- 1) Passenger Earning
यात्री से आय
- 2) Goods Traffic Earning
माल यातायात से आय
- 3) Sundry Earning
फुटकर/विविध आय
- 4) Other Coach Earning
अन्य कोच से आय

Correct Answer: Goods Traffic Earning

माल यातायात से आय

Candidate Answer: Goods Traffic Earning
माल यातायात से आय

QID : 278 - Which of the following Vedas is referred to as the starting source of the word Rudra?

निम्न में से किस वेद को रुद्र नामक शब्द का आरंभिक स्रोत माना गया है?

Options:

- 1) Rigveda
ऋग्वेद
- 2) Samaveda
सामवेद
- 3) Yajurveda
यजुर्वेद
- 4) Atharvaveda
अथर्ववेद

Correct Answer: Rigveda
ऋग्वेद

Candidate Answer: Rigveda
ऋग्वेद

QID : 279 - The eminent Saint Vallabhacharya was associated with which of the following branches?

विख्यात संत वल्लभाचार्य निम्न में से किस शाखा से संबद्ध थे?

Options:

- 1) Gyanashrayi
ज्ञानाश्रयी
- 2) Krishnashrayi
कृष्णाश्रयी
- 3) Premashrayi
प्रेमाश्रयी
- 4) Ramashrayi
रामाश्रयी

Correct Answer: Krishnashrayi
कृष्णाश्रयी

Candidate Answer: [NOT ANSWERED]

QID : 280 - Which of the following is NOT a terrestrial planet?

निम्नलिखित में से कौन एक पार्थिव ग्रह नहीं है?

Options:

- 1) Mercury
बुध
- 2) Venus
शुक्र
- 3) Mars
मंगल
- 4) Saturn
शनि

Correct Answer: Saturn
शनि

Candidate Answer: Saturn
शनि

QID : 281 - The Line of Cancer passes through how many states of India?

कर्क रेखा भारत के कितने राज्यों से होकर गुजरती है?

Options:

- 1) 5
- 2) 6
- 3) 7
- 4) 8

Correct Answer: 8

Candidate Answer: 8

QID : 282 - When was Guru Nanak Dev born?

गुरु नानक देव का जन्म कब हुआ था?

Options:

1) 1449 AD

1449 ई.

2) 1453 AD

1453 ई.

3) 1469 AD

1469 ई.

4) 1499 AD

1499 ई.

Correct Answer: 1469 AD

1469 ई.

Candidate Answer: [NOT ANSWERED]

QID : 283 - Which of the following country is NOT a member of the Indian Ocean Rim Association (IORA)?

निम्नलिखित में से कौन-सा देश हिंद महासागर तटीय क्षेत्रीय सहयोग संघ (IORA)का सदस्य नहीं है?

Options:

1) Seychelles

सेशेल्स

2) Sri Lanka

श्रीलंका

3) India

भारत

4) China

चीन

Correct Answer: China

चीन

Candidate Answer: Seychelles

सेशेल्स

QID : 284 - Which of the following President was awarded the Nobel Peace Prize 2016?

निम्नलिखित में से किस राष्ट्रपति को नोबेल शांति पुरस्कार 2016 से सम्मानित किया गया था?

Options:

1) Raffel Korea

राफेल कोरिया

2) Juan Manuel Santos

जुआन मैनुअल सैंटोस

3) Donald Trump

डोनाल्ड ट्रंप

4) Alexander Lukashenko

एलेक्जेंडर लुकाशेन्को

Correct Answer: Juan Manuel Santos

जुआन मैनुअल सैंटोस

Candidate Answer: Juan Manuel Santos

जुआन मैनुअल सैंटोस

QID : 285 - Who is the the present Prime Minister of Pakistan?

पाकिस्तान के वर्तमान प्रधान मंत्री कौन हैं?

Options:

1) Mamnoon Hussain

ममनून हुसैन

2) Shahid Khaqan Abbasi

शाहिद खाकन अब्बासी

3) Muhammad Nawaz Sharif

मोहम्मद नवाज़ शरीफ

4) Yousaf Raza Gillani

यूसुफ रजा गिलानी

Correct Answer: Shahid Khaqan Abbasi

शाहिद खाकन अब्बासी

Candidate Answer: Yousaf Raza Gillani
यूसुफ रजा गिलानी

QID : 286 - In which part of the human body fat is completely digested?

मानव शरीर के किस हिस्से में वसा का पूर्णतया पाचन होता है?

Options:

1) Small Intestine

छोटी आंत

2) Liver

यकृत (लीवर)

3) Stomach

आमाशय (स्टमक)

4) Large Intestine

बड़ी आंत

Correct Answer: Small Intestine

छोटी आंत

Candidate Answer: Small Intestine

छोटी आंत

QID : 287 - Which of the following statement(s) is/are INCORRECT regarding Phosphorus?

निम्नलिखित में से फॉस्फोरस के संदर्भ में कौन सा/से कथन सही नहीं है/हैं?

Options:

1) Phosphorus reacts vigorously with water.

फॉस्फोरस जल से अभिक्रिया करता है।

2) It is a non-metal.

यह एक अधातु है।

3) It catches fire on reacting with air.

यह वायु से अभिक्रिया कर आग पकड़ लेता है।

4) It is found in group 15 of the modern periodic table.

यह आधुनिक आवर्ती सारणी के समूह 15 में पाया जाता है।

Correct Answer: Phosphorus reacts vigorously with water.

फॉस्फोरस जल से अभिक्रिया करता है।

Candidate Answer: It catches fire on reacting with air.

यह वायु से अभिक्रिया कर आग पकड़ लेता है।

QID : 288 -

Match the following.

निम्नलिखित का मिलान कीजिए।

Body / निकाय	Type / प्रकार
I. Panchayati Raj / पंचायती राज	1. Non-constitutional / गैर संवैधानिक
II. Election Commission / चुनाव आयोग	2. Local government / स्थानीय सरकार
III. Central Information Commission / केंद्रीय सूचना आयोग	3. Constitutional / संवैधानिक

Options:

1) I - 1, II - 2, III - 3

2) I - 2, II - 1, III - 3

3) I - 2, II - 3, III - 1

4) I - 1, II - 3, III - 2

Correct Answer: I - 2, II - 3, III - 1

Candidate Answer: I - 2, II - 3, III - 1

QID : 289 - All the members of a municipality are _____ by the people of municipal area.

नगरपालिका के सभी सदस्य नगर पालिका क्षेत्र के लोगों द्वारा _____ जाते हैं।

Options:

1) Elected directly

प्रत्यक्ष रूप से चुने

2) Elected indirectly

अप्रत्यक्ष रूप से चुने

3) Nominated proportionally

आनुपातिक रूप से मनोनीत किए

4) Nominated indirectly

अप्रत्यक्ष रूप से मनोनीत किए

Correct Answer: Elected directly

प्रत्यक्ष रूप से चुने

Candidate Answer: Nominated indirectly

अप्रत्यक्ष रूप से मनोनीत किए

QID : 290 - The maintenance functions of living organisms are performed by the _____.

जीवों में अनुरक्षण कार्य _____ द्वारा किया जाता है।

Options:

1) chemical processes

रसायन-प्रक्रम

2) life processes

जैव-प्रक्रम

3) physical processes

भौतिक-प्रक्रम

4) No option is correct.

कोई विकल्प सही नहीं है।

Correct Answer: life processes

जैव-प्रक्रम

Candidate Answer: life processes

जैव-प्रक्रम

QID : 291 - Which of the following may cause the breakdown of pyruvate into lactic acid in our muscles?

निम्नलिखित में से कौन सा हमारी मांसपेशियों में पाय्रूवेट का लैक्टिक अम्ल में खंडन का कारण हो सकता है?

Options:

1) Lack of water

जल की कमी

2) Lack of Oxygen

ऑक्सीजन की कमी

3) Lack of carbon dioxide

कार्बन डाइऑक्साइड की कमी

4) Lack of nitrogen

नाइट्रोजन की कमी

Correct Answer: Lack of Oxygen

ऑक्सीजन की कमी

Candidate Answer: Lack of Oxygen

ऑक्सीजन की कमी

QID : 292 - In September 2017, "Pradhan Mantri Sahaj Bijli Har Ghar Yojna" was launched for giving electricity connections in rural and urban areas by _____.

सितम्बर 2017 में, ग्रामीण तथा शहरी क्षेत्रों में _____ तक विद्युत कनेक्शन प्रदान करने के लिए "प्रधानमंत्री सहज बिजली हर घर योजना" लोकार्पित की गई थी।

Options:

- 1) March, 2019
मार्च, 2019
- 2) December, 2018
दिसम्बर, 2018
- 3) March, 2018
मार्च, 2018
- 4) October, 2018
अक्टूबर, 2018

Correct Answer: December, 2018
दिसम्बर, 2018

Candidate Answer: March, 2019
मार्च, 2019

QID : 293 - By which process the Chinese Scientists have cloned two identical long - tailed macaques?

किस प्रक्रिया द्वारा चीन के वैज्ञानिकों ने दो अभिन्न लम्बी-पूँछ वाले मैकाकों का क्लोन किया है?

Options:

- 1) Polymerase chain reaction
पॉलीमरेज श्रृंखला अभिक्रिया
- 2) Parthenogenesis
अनिषेक जनन
- 3) Somatic cell nuclear transfer
दैहिक कोशिका नाभिक हस्तांतरण
- 4) Embryonic cell nuclear transfer
भ्रूण कोशिका नाभिक हस्तांतरण

Correct Answer: Somatic cell nuclear transfer
दैहिक कोशिका नाभिक हस्तांतरण

Candidate Answer: [NOT ANSWERED]

QID : 294 - In India, how much percent of GDP is the fiscal deficit target for the Financial Year 2017-18?

भारत में, जीडीपी का कितना प्रतिशत वित्तीय वर्ष 2017-18 के लिए राजकोषीय घाटा लक्षित है?

Options:

- 1) 4.20%
- 2) 3.20%
- 3) 2.20%
- 4) 4.00%

Correct Answer: 3.20%

Candidate Answer: [NOT ANSWERED]

QID : 295 - On 10 April 2017, Lok Sabha Passed the Motor Vehicles Act (Amendment) Bill, 2016. Under the new provisions, government will develop a scheme for cashless treatment of road accident victims during _____.

10 अप्रैल 2017 को, लोकसभा ने मोटर वाहन अधिनियम (संशोधन) विधेयक, 2016 पास किया। नए प्रावधानों के अंतर्गत सरकार _____ के दौरान सड़क दुर्घटना के पीड़ितों के कैशलेस उपचार के लिए एक योजना विकसित करेगी।

Options:

- 1) Silver hour
सिल्वर ऑवर
- 2) Platinum hour
प्लैटिनम ऑवर
- 3) Diamond hour
डायमंड ऑवर
- 4) Golden hour
गोल्डन ऑवर

Correct Answer: Golden hour

गोल्डन ऑवर

Candidate Answer: Golden hour

गोल्डन ऑवर

QID : 296 - A bullet of mass 10gm is fired with a velocity of 40 m/s from a gun of mass 8 kg. Find the recoil velocity (in m/s) of the gun.

8 कि.ग्रा द्रव्यमान वाली किसी बन्दूक से 10 ग्राम द्रव्यमान वाली एक गोली 40 मी./से. के वेग से चलाई जाती है। बन्दूक के पीछे हटने का वेग (मी./से. में) ज्ञात करें।

Options:

- 1) 2
- 2) 0.1
- 3) 4
- 4) 0.05

Correct Answer: 0.05

Candidate Answer: [NOT ANSWERED]

QID : 297 - During uniform motion of an object along a straight line, its _____ remains constant with time.

किसी वस्तु की एकसमान सरल रेखीय गति के दौरान समय के साथ इसका _____ नियत रहता है।

Options:

- 1) acceleration
त्वरण
- 2) deceleration
अवमंदन
- 3) force
बल
- 4) velocity
वेग

Correct Answer: velocity

वेग

Candidate Answer: velocity

वेग

QID : 298 - The bodies of penguins are _____ and their feet have webs, making them good swimmers.

पेंग्विंस का शरीर _____ होता है और इनके पैरों में जाल जैसा बना होता है जिससे ये अच्छे तैराक होते हैं।

Options:

- 1) heavy
भारी
- 2) feathery
परदार
- 3) streamlined
धारारेखित
- 4) oily
तैलीय

Correct Answer: streamlined

धारारेखित

Candidate Answer: streamlined

धारारेखित

QID : 299 - Which of the statements given below are correct?

- A) Dani Pedrosa won the 2017 Qatar Motorcycle Grand Prix MotoGP.
- B) Bernhard Langer won the Golf 2017 BMW PGA Championship.
- C) Dustin Johnson won the Formula One 2017 Abu Dhabi Grand Prix.

निम्नलिखित में से कौन सा कथन सत्य है?

- A) दानी पेद्रोसा ने वर्ष 2017 का कतर मोटरसाइकिल ग्रा प्रि मोटोजीपी खिताब जीता।
- B) बर्नार्ड लेंगर ने गोल्फ 2017 बीएमडब्ल्यू पीजीए चैम्पियनशिप जीती।
- C) डस्टिन जॉन्सन ने फॉर्मूला वन 2017 अबू धाबी ग्रा प्रि जीती।

Options:

- 1) Only B
केवल B
- 2) B and C
B और C
- 3) A, B and C
A, B और C
- 4) None of these
इलमें से कोई नहीं

Correct Answer: None of these

इलमें से कोई नहीं

Candidate Answer: [NOT ANSWERED]

QID : 300 - In Microsoft Word, under character formatting _____ increases/decreases the size of the characters.

माइक्रोसॉफ्ट वर्ड में, कैरेक्टर फॉर्मेटिंग के अंतर्गत _____ संप्रतीकों के आकार को बढ़ाता/घटाता है।

Options:

1) Size

आकार

2) Font

फॉन्ट

3) Effects

प्रभाव

4) Font style

फॉन्ट शैली

Correct Answer: Size

आकार

Candidate Answer: Size

आकार

make | MY | exam