



Staff Selection Commission
(Government Of India)

REGISTRATION NUMBER :
EXAM DATE : 4-March-2018
EXAM NAME : SSC Examination TOTAL
MARKS : 200

SSC CHSL 2017 - 4 March - 3rd Shift

CANDIDATE NAME :
EXAM START TIME : 16:30:00
EXAM DURATION : 01:00 Hrs
TOTAL NO OF QUESTIONS : 100

QID : 101 - In the following question, some part of the sentence may have errors. Find out which part of the sentence has an error and select the appropriate option. If a sentence is free from error, select 'No Error'.

She was (1)/ quite amusing (2)/ at that story. (3)/ No error (4)

Options:

- 1) 1
- 2) 2
- 3) 3
- 4) 4

Correct Answer: 2

Candidate Answer: 2

QID : 102 - In the following question, some part of the sentence may have errors. Find out which part of the sentence has an error and select the appropriate option. If a sentence is free from error, select 'No Error'.

Money bills could only be introduced in the Lok Sabha, (1)/ and upon being passed, are sent to the Rajya Sabha, (2)/ where it can be deliberated upon for upto 14 days. (3)/ No error (4)

Options:

- 1) 1
- 2) 2
- 3) 3
- 4) 4

Correct Answer: 1

Candidate Answer: 3

QID : 103 - In the following question, the sentence given with blank to be filled in with an appropriate word. Select the correct alternative out of the four and indicate it by selecting the appropriate option.

I ____ not attend the party.

Options:

- 1) probably be
- 2) will be
- 3) won't
- 4) shall

Correct Answer: shall

Candidate Answer: shall

QID : 104 - In the following question, the sentence given with blank to be filled in with an appropriate word. Select the correct alternative out of the four and indicate it by selecting the appropriate option.

Happy thoughts release hormones that work for our well-being and negative thoughts release hormones that make us ____.

Options:

- 1) ill
- 2) happy
- 3) excited
- 4) rejuvenated

Correct Answer: ill

Candidate Answer: ill

QID : 105 - In the following question, out of the given four alternatives, select the one which best expresses the meaning of the given word.

Accolade

Options:

- 1) Silence
- 2) Mediocrity
- 3) Laurels
- 4) Lowliness

Correct Answer: Laurels

Candidate Answer: Lowliness

QID : 106 - In the following question, out of the given four alternatives, select the one which best expresses the meaning of the given word.

Investive

Options:

- 1) Invent
- 2) Expressive
- 3) Abusive
- 4) Invitation

Correct Answer: Abusive

Candidate Answer: Expressive

QID : 107 - In the following question, out of the given four alternatives, select the one which is opposite in meaning of the given word.

Elated

Options:

- 1) Inspired
- 2) Cheered
- 3) Disheartened
- 4) Encouraged

Correct Answer: Disheartened

Candidate Answer: [NOT ANSWERED]

QID : 108 - In the following question, out of the given four alternatives, select the one which is opposite in meaning of the given word.

Baneful

Options:

- 1) Harmful
- 2) Cruel
- 3) Disastrous
- 4) Lucky

Correct Answer: Lucky

Candidate Answer: Cruel

QID : 109 - Rearrange the parts of the sentence in correct order.

To many women human rights are

P : foreign to their culture and

Q : of individual and community identity

R : challenge deeply held notions

Options:

- 1) PQR
- 2) RPQ
- 3) QPR
- 4) PRQ

Correct Answer: PRQ

Candidate Answer: PRQ

QID : 110 - A sentence has been given in Active/Passive Voice. Out of the four given alternatives, select the one which best expresses the same sentence in Passive/Active Voice.

Some girls were helping the wounded men.

Options:

- 1) The wounded men were helping some girls.
- 2) The wounded men were being helped by some girls.
- 3) The wounded men are being helped by some girls.
- 4) The wounded men received help from some girls.

Correct Answer: The wounded men were being helped by some girls.

Candidate Answer: The wounded men were being helped by some girls.

QID : 111 - A sentence has been given in Direct/Indirect Speech. Out of the four given alternatives, select the one which best expresses the same sentence

Shyam said, "My master is eating."

Options:

- 1) Shyam inform that his master is eating.
- 2) Shyam say that his master is eating.
- 3) Shyam and his master was eating.
- 4) Shyam said that his master was eating.

Correct Answer: Shyam said that his master was eating.

Candidate Answer: Shyam said that his master was eating.

QID : 112 - In the following question, a word has been written in four different ways out of which only one is correctly spelt. Select the correctly spelt word.

Options:

- 1) Asassination
- 2) Assasination
- 3) Assassination
- 4) Assaissination

Correct Answer: Assassination

Candidate Answer: Assassination

QID : 113 - In the following passage, some of the words have been left out. Read the passage carefully and select the correct answer for the given blank out of the four alternatives.

A little thought will show you how vastly your own _____ depends on the way other people bear themselves toward you. The looks _____ tones at your breakfast-table, the conduct of _____ fellow-workers or employers, the _____ or unreliable men you deal with, what people say to you on the street, the way your cook and housemaid do their work, the letters you get, the friends or foes you meet,--these things make _____ very much of the pleasure or misery of your day.

how vastly your own _____ depends on the way

Options:

- 1) happiness
- 2) happy
- 3) happily
- 4) happiest

Correct Answer: happiness

Candidate Answer: happiness

QID : 114 - In the following passage, some of the words have been left out. Read the passage carefully and select the correct answer for the given blank out of the four alternatives.

A little thought will show you how vastly your own _____ depends on the way other people bear themselves toward you. The looks _____ tones at your breakfast-table, the conduct of _____ fellow-workers or employers, the _____ or unreliable men you deal with, what people say to you on the street, the way your cook and housemaid do their work, the letters you get, the friends or foes you meet,--these things make _____ very much of the pleasure or misery of your day.

The looks _____ tones at your breakfast-table

Options:

- 1) but
- 2) if
- 3) then
- 4) and

Correct Answer: and

Candidate Answer: and

QID : 115 - In the following passage, some of the words have been left out. Read the passage carefully and select the correct answer for the given blank out of the four alternatives.

A little thought will show you how vastly your own _____ depends on the way other people bear themselves toward you. The looks _____ tones at your breakfast-table, the conduct of _____ fellow-workers or employers, the _____ or unreliable men you deal with, what people say to you on the street, the way your cook and housemaid do their work, the letters you get, the friends or foes you meet,--these things make _____ very much of the pleasure or misery of your day.

the conduct of _____ fellow-workers

Options:

- 1) you
- 2) your
- 3) them
- 4) they

Correct Answer: your

QID : 116 - In the following passage, some of the words have been left out. Read the passage carefully and select the correct answer for the given blank out of the four alternatives.

A little thought will show you how vastly your own _____ depends on the way other people bear themselves toward you. The looks _____ tones at your breakfast-table, the conduct of _____ fellow-workers or employers, the _____ or unreliable men you deal with, what people say to you on the street, the way your cook and housemaid do their work, the letters you get, the friends or foes you meet,--these things make _____ very much of the pleasure or misery of your day.

employers, the _____ or unreliable men

Options:

- 1) faithful
- 2) faith
- 3) faithfully
- 4) faithfulness

Correct Answer: faithful

Candidate Answer: faithful

QID : 117 - In the following passage, some of the words have been left out. Read the passage carefully and select the correct answer for the given blank out of the four alternatives.

A little thought will show you how vastly your own _____ depends on the way other people bear themselves toward you. The looks _____ tones at your breakfast-table, the conduct of _____ fellow-workers or employers, the _____ or unreliable men you deal with, what people say to you on the street, the way your cook and housemaid do their work, the letters you get, the friends or foes you meet,--these things make _____ very much of the pleasure or misery of your day.

things make _____ very much of the pleasure

Options:

- 1) up
- 2) upon
- 3) above
- 4) on

Correct Answer: up

Candidate Answer: up

QID : 118 - In the following question, out of the four alternatives, select the alternative which best expresses the meaning of the idiom/phrase.

At somebody's expense

Options:

- 1) Paid for by someone.
- 2) To blame a crime on someone else.
- 3) The unlucky persons who lose a race.
- 4) If one person benefits it is always at the loss of another.

Correct Answer: Paid for by someone.

Candidate Answer: To blame a crime on someone else.

QID : 119 - In the following question, out of the four alternatives, select the alternative which best expresses the meaning of the idiom/phrase.

Cock and bull story

Options:

- 1) An implausible story used as an explanation or excuse.
- 2) A fairy tale told down generations.
- 3) A story of animals with hidden morals.
- 4) The meek can defeat the bully by being clever.

Correct Answer: An implausible story used as an explanation or excuse.

Candidate Answer: An implausible story used as an explanation or excuse.

QID : 120 - In the following question, out of the four alternatives, select the alternative which is the best substitute of the words/sentence.

An upright bar, post, or frame forming a support or barrier

Options:

- 1) Repose
- 2) Stanchion
- 3) Recumbent
- 4) Supine

Correct Answer: Stanchion

Candidate Answer: [NOT ANSWERED]

QID : 121 - In the following question, out of the four alternatives, select the alternative which is the best substitute of the words/sentence.

A routine task, especially a household one

Options:

- 1) Chore
- 2) Servitude
- 3) Moil
- 4) Travail

Correct Answer: Chore

Candidate Answer: Travail

QID : 122 - In the following question, out of the four alternatives, select the alternative which will improve the bracketed part of the sentence. In case no improvement is needed, select "no improvement".

Opening the door to her each morning is like **(lets)** a breath of fresh air into my world.

Options:

- 1) let
- 2) to let
- 3) letting
- 4) no improvement

Correct Answer: letting

Candidate Answer: letting

QID : 123 - In the following question, out of the four alternatives, select the alternative which will improve the bracketed part of the sentence. In case no improvement is needed, select "no improvement".

What seeds you **(has sow)** in the garden of your mind determine the quality of life you shall have.

Options:

- 1) sowing
- 2) sow
- 3) had sow
- 4) no improvement

Correct Answer: sow

Candidate Answer: sow

QID : 124 - The question below consists of a set of labelled sentences. Out of the four options given, select the most logical order of the sentences to form a coherent paragraph.

If your ward talks

A-well to convince you, be

B-social and interpersonal creativity

C-proud that he or she has

Options:

- 1) ABC
- 2) ACB
- 3) CBA
- 4) CAB

Correct Answer: ACB

Candidate Answer: ACB

QID : 125 - In the following question, four words are given out of which one word is correctly spelt. Select the correctly spelt word.

Options:

- 1) arbitrates
- 2) arbitrates
- 3) arbetrates
- 4) arbettrates

Correct Answer: arbitrates

Candidate Answer: arbitrates

QID : 126 - In the following question, select the related word pair from the given alternatives.

Lotus : Flower :: ? : ?

निम्नलिखित प्रश्न में दिए गए विकल्पों में से संबंधित शब्द युग्म को चुनिए।

कमल : पुष्प :: ? : ?

Options:

1) Rabbit : White

खरगोश : सफेद

2) Peacock : Bird

मोर : पक्षी

3) Crow : Flies

कौआ : उड़ना

4) Krishna : Speak

कृष्णा : बोलना

Correct Answer: Peacock : Bird

मोर : पक्षी

Candidate Answer: Peacock : Bird

मोर : पक्षी

QID : 127 - In the following question, select the related number from the given alternatives.**13 : 167 :: 23 : ?**

निम्नलिखित प्रश्न में दिए गए विकल्पों में से संबंधित संख्या को चुनिए।

13 : 167 :: 23 : ?**Options:**

1) 527

2) 525

3) 531

4) 532

Correct Answer: 527**Candidate Answer:** 527**QID : 128** - In the following question, select the related letter pair from the given alternatives.**PIR : OHQ :: ? : ?**

निम्नलिखित प्रश्न में दिए गए विकल्पों में से संबंधित अक्षर युग्म को चुनिए।

PIR : OHQ :: ? : ?**Options:**

1) KLO : MOR

2) LNT : JLQ

3) FAX : EZW

4) KMN : LNO

Correct Answer: FAX : EZW**Candidate Answer:** FAX : EZW**QID : 129** - In the following question, select the odd word pair from the given alternatives.

निम्नलिखित प्रश्न में दिए गए विकल्पों में से विषम शब्द युग्म को चुनिए।

Options:

1) Carnivorous – Tiger

मांसाहारी – बाघ

2) Herbivorous – Cow

शाकाहारी – गाय

3) Rabbit – Herbivorous

खरगोश – शाकाहारी

4) Carnivorous – Dog

मांसाहारी – कुत्ता

Correct Answer: Rabbit – Herbivorous

खरगोश – शाकाहारी

Candidate Answer: Carnivorous – Dog

मांसाहारी – कुत्ता

QID : 130 - In the following question, four number pairs are given. The number on left side of (–) is related to the number of the right side of (–) with some Logic/Rule/Relation. Three are similar on basis of same Logic/Rule/Relation. Select the odd one out from the given alternatives.

नीचे दिए गए प्रश्न में, चार संख्या युग्म दिए गए हैं। (–) के बायीं ओर दी संख्या (–) के दायीं ओर दी गई संख्या से तर्क/नियम से सम्बंधित है। तीन उसी एक तर्क/नियम के आधार पर समान हैं। दिए गए विकल्पों में से

Options:

- 1) 8 - 64
- 2) 6 - 36
- 3) 4 - 16
- 4) 2 - 12

Correct Answer: 2 - 12

Candidate Answer: 2 - 12

QID : 131 - In the following question, select the odd letter/letters from the given alternatives.

निम्नलिखित प्रश्न में दिए गए विकल्पों में से विषम अक्षर/अक्षरों को चुनिए।

Options:

- 1) SW
- 2) GK
- 3) FJ
- 4) DG

Correct Answer: DG

Candidate Answer: DG

QID : 132 - From the given alternatives, according to dictionary, which word will come at **FIRST** position?

1. Clause
2. Cigar
3. Clever
4. Cinema
5. Client

दिए गए विकल्पों में से, शब्दकोश के अनुसार, कौन सा शब्द **पहले** स्थान पर आयेगा?

1. Clause
2. Cigar
3. Clever
4. Cinema
5. Client

Options:

- 1) Cinema
- 2) Client
- 3) Cigar
- 4) Clause

Correct Answer: Cigar

Candidate Answer: Cigar

QID : 133 - In the following question, select the missing number from the given series.

34, 69, 140, 283, ?, 1145

निम्नलिखित प्रश्न में दिए गए विकल्पों में से लुप्त अंक ज्ञात कीजिए।

34, 69, 140, 283, ?, 1145

Options:

- 1) 440
- 2) 545
- 3) 570
- 4) 625

Correct Answer: 570

Candidate Answer: 570

QID : 134 - A series is given with one term missing. Select the correct alternative from the given ones that will complete the series.

CX, EV, GT, IR, ?

एक अनुक्रम दिया गया है, जिसमें से एक पद लुप्त है। दिए गए विकल्पों में से वह सही विकल्प चुनिए, जो अनुक्रम को पूरा करे।

CX, EV, GT, IR, ?

Options:

- 1) LP
- 2) LQ
- 3) KP

4) KQ

Correct Answer: KP**Candidate Answer:** KP

QID : 135 - In a row of boys, Rahul is 19th from top and Ajay is 21st from bottom. They interchange their position. Ajay now becomes 28th from bottom. How many total boys are there in the row?

लड़कों की एक पंक्ति में, राहुल ऊपर से 19-वाँ है तथा अजय नीचे से 21-वाँ है। वे अपना स्थान परस्पर आपस में बदल लेते हैं। अजय अब नीचे से 28-वाँ हो जाता है। पंक्ति में कुल कितने लड़के हैं?

Options:

- 1) 47
- 2) 46
- 3) 45
- 4) 48

Correct Answer: 46**Candidate Answer:** 46

QID : 136 - From the given alternatives, select the word which **CANNOT** be formed using the letters of the given word.

Liabilities

दिए गए विकल्पों में से वह शब्द चुनिए जो दिए गए शब्द के अक्षरों का प्रयोग करके **नहीं** बनाया जा सकता है।

Liabilities**Options:**

- 1) Lite
- 2) Able
- 3) Like
- 4) Table

Correct Answer: Like**Candidate Answer:** Like

QID : 137 - In a certain code language, "HARMS" is written as "81181319" and "FLUTE" is written as "61221205". How is "WOUND" written in that code language?

एक विशिष्ट कोड भाषा में, "HARMS" को "81181319" लिखा जाता है तथा "FLUTE" को "61221205" लिखा जाता है। इस कोड भाषा में "WOUND" को किस प्रकार लिखा जाएगा?

Options:

- 1) 21144152
- 2) 21441514
- 3) 231521144
- 4) 171921415

Correct Answer: 231521144**Candidate Answer:** 231521144

QID : 138 - In a certain code language, '÷' represents '+', '-' represents 'x', '+' represents '÷' and 'x' represents '-'. Find out the answer to the following question.

$$8 \div 14 - 20 + 5 \times 2 = ?$$

किसी निश्चित कोड भाषा में '÷', '+' को प्रदर्शित करता है, '-' , 'x' को प्रदर्शित करता है, '+' , '÷' को प्रदर्शित करता है और 'x', '-' को प्रदर्शित करता है। निम्नलिखित प्रश्न का उत्तर ज्ञात करें।

$$8 \div 14 - 20 + 5 \times 2 = ?$$

Options:

- 1) 46
- 2) 62
- 3) 32
- 4) 14

Correct Answer: 62**Candidate Answer:** 62

QID : 139 - The following equation is incorrect. Which two signs should be interchanged to correct the equation?

$$12 - 6 \times 5 + 20 \div 4 = 31$$

निम्नलिखित समीकरण गलत है। इस समीकरण को सही करने के लिए किन दो चिन्हों को आपस में अदला-बदली करना चाहिए?

$$12 - 6 \times 5 + 20 \div 4 = 31$$

Options:

- 1) + and ÷

- + और +
 2) + and x
 + और x
 3) - and +
 - और +
 4) ÷ and x
 ÷ और x

Correct Answer: + and x

+ और x

Candidate Answer: + and x

+ और x

QID : 140 - If $70*10 = -7$, $50*5 = -10$ and $10*5 = -2$, then find the value of $80*1 = ?$

यदि $70*10 = -7$, $50*5 = -10$ और $10*5 = -2$, तो $80*1$ का मान ज्ञात करें।

Options:

- 1) 45
 2) -25
 3) 20
 4) -80

Correct Answer: -80

Candidate Answer: -80

QID : 141 - Which of the following terms follows the trend of the given list?

XYXYXYxy, XYXYXyxY, XYXYxyXY, XYXyxYXY, XYxyXYXY, _____.

निम्नलिखित में से कौन सा पद दी गयी सूची के क्रम के अनुसार है?

XYXYXYxy, XYXYXyxY, XYXYxyXY, XYXyxYXY, XYxyXYXY, _____.

Options:

- 1) xyXYXYXY
 2) XYXYXYxy
 3) XYXYXyxY
 4) XyxYXYXY

Correct Answer: XyxYXYXY

Candidate Answer: XyxYXYXY

QID : 142 - Two trucks start from the same warehouse. Truck A goes 6 km North, then turns to its right and goes 4 km. In the meanwhile truck B goes 9 km East, then turns North and goes 6 km, then turns to its right and goes 4 km. Where is truck B with respect to truck A?

दो ट्रक एक ही गोदाम से निकलते हैं। ट्रक A उत्तर की ओर 6 कि.मी. तक जाता है, फिर अपने दाहिनी ओर मुड़ जाता है और आगे 4 कि.मी. दूर जाता है। इस बीच ट्रक B पूर्व में 9 कि.मी तक जाता है, फिर उत्तर की तरफ मुड़ जाता है और आगे 6 कि.मी जाता है, फिर वह अपने उसके दाहिनी ओर मुड़ जाता है और आगे 4 कि.मी दूर जाता है। ट्रक A के संबंध में ट्रक B कहां है?

Options:

- 1) 17 km East
 17 कि.मी पूर्व
 2) 9 km West
 9 कि.मी पश्चिम
 3) 17 km West
 17 कि.मी पश्चिम
 4) 9 km East
 9 कि.मी पूर्व

Correct Answer: 9 km East

9 कि.मी पूर्व

Candidate Answer: 9 km West

9 कि.मी पश्चिम

QID : 143 - In the question two statements are given, followed by two conclusions, I and II. You have to consider the statements to be true even if it seems to be at variance from commonly known facts. You have to decide which of the given conclusions, if any, follows from the given statements.

Statement I: No mirrors are glass

Statement II: No reflective are mirrors

Conclusion I: All glass are reflective

Conclusion II: All reflective are glass

प्रश्न में दो कथन दिये गये हैं जिसके आगे दो निष्कर्ष I और II निकाले गये हैं। आपको मानना है कि दोनों कथन सत्य है चाहे वह सामान्यतः ज्ञात तथ्यों से भिन्न प्रतीत होते हों। आपको निर्णय करना है की दिए गए निष्कर्षों में से कौन-सा/कौन-से निश्चित रूप से कथन द्वारा सही निकाला जा सकता है/सकते हैं, यदि कोई हो।

कथन I: कोई भी दर्पण कांच नहीं होता हैं

कथन II: कोई भी परावर्तनीय दर्पण नहीं होते हैं

निष्कर्ष I: सभी कांच परावर्तनीय होते हैं

निष्कर्ष II: सभी परावर्तनीय कांच होते हैं

Options:

1) Only conclusion I follows

केवल निष्कर्ष I सही है

2) Only conclusion II follows

केवल निष्कर्ष II सही है

3) Both conclusions I and II follow

दोनों निष्कर्ष I और II सही है

4) Neither conclusion I nor conclusion II follows

ना तो निष्कर्ष I सही है ना ही निष्कर्ष II

Correct Answer: Neither conclusion I nor conclusion II follows

ना तो निष्कर्ष I सही है ना ही निष्कर्ष II

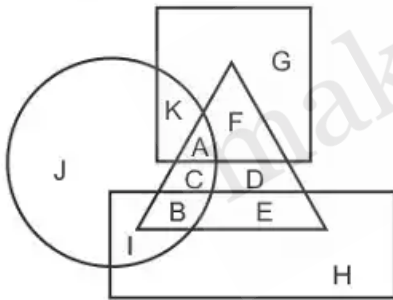
Candidate Answer: Neither conclusion I nor conclusion II follows

ना तो निष्कर्ष I सही है ना ही निष्कर्ष II

QID : 144 -

In the following figure, rectangle represents Copywriters, circle represents Cartoonists, triangle represents Comedians and square represents Mothers. Which set of letters represents Copywriters who are neither Comedians nor Mothers?

निम्नलिखित आकृति में, आयत प्रतिलेखकों को प्रदर्शित करता है, वृत्त कार्टूनिस्ट को प्रदर्शित करता है, त्रिभुज हास्य अभिनेताओं को प्रदर्शित करता है और वर्ग माताओं को प्रदर्शित करता है। अक्षरों का कौन सा समूह उन प्रतिलेखकों को प्रदर्शित करता है जो न तो हास्य अभिनेता है और न ही माता है?



Options:

1) BE

2) CD

3) AF

4) IH

Correct Answer: IH

Candidate Answer: IH

QID : 145 - A series is given with one term missing. Select the correct alternative from the given ones that will complete the series.

NIP, KGO, HEN, ECM, ?

एक अनुक्रम दिया गया है, जिसमें से एक पद लुप्त है। दिए गए विकल्पों में से वह सही विकल्प चुनिए, जो अनुक्रम को पूरा करे।

NIP, KGO, HEN, ECM, ?

Options:

1) CBM

2) BAL

3) CAL

4) BBM

Correct Answer: BAL**Candidate Answer:** BAL**QID : 146** - In the following question, select the missing number from the given series.**146, 137, 128, ?, 110, 101**

निम्नलिखित प्रश्न में दिए गए विकल्पों में से लुप्त अंक ज्ञात कीजिए।

146, 137, 128, ?, 110, 101**Options:**

1) 123

2) 121

3) 117

4) 119

Correct Answer: 119**Candidate Answer:** 119**QID : 147** - In the following question, four groups of three numbers are given. In each group the second and third number are related to the first number by a Logic/Rule/Relation. Three are similar on basis of same Logic/Rule/Relation. Select the odd one out from the given alternatives.

नीचे दिए गए प्रश्न में, तीन संख्याओं के चार समूह दिये गए हैं। प्रत्येक समूह में दूसरी तथा तीसरा संख्या पहली संख्या से किसी एक तर्क/नियम से सम्बंधित है। तीन उसी एक तर्क/नियम के आधार पर समान हैं। दिए गए विकल्पों में से भिन्न को चुनिए।

Options:

1) (44, 42, 36)

2) (56, 54, 48)

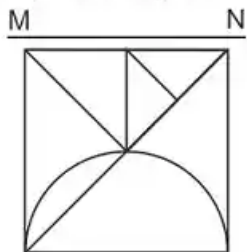
3) (38, 36, 32)

4) (64, 62, 56)

Correct Answer: (38, 36, 32)**Candidate Answer:** (38, 36, 32)**QID : 148** -

If a mirror is placed on the line MN, then which of the answer figures is the right image of the given figure?


यदि एक दर्पण को MN रेखा पर रखा जाए तो दी गयी उत्तर आकृतियों में से कौन-सी आकृति प्रश्न आकृति का सही प्रतिबिम्ब होगी?

**Options:**

1)

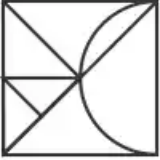


2)

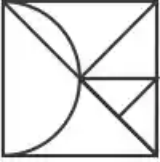




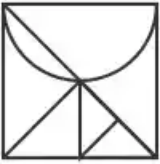
3)



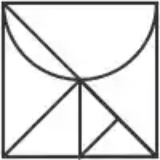
4)



Correct Answer:



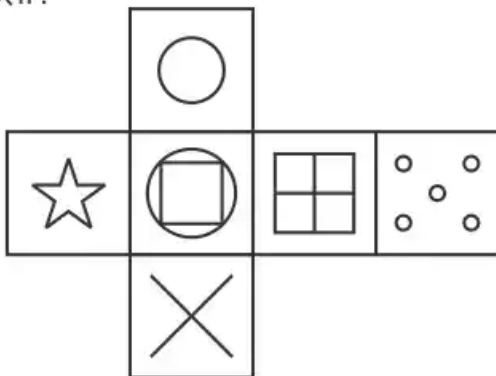
Candidate Answer:



QID : 149 -

Which of the following cube in the answer figure cannot be made based on the unfolded cube in the question figure?

निम्नलिखित उत्तर आकृति में से कौन सा घन दिए गए प्रश्न आकृति में से खुले घन से बनाया नहीं जा सकता?



Options:

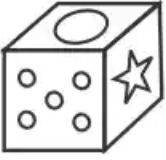
1)



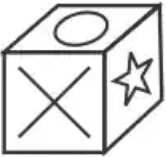
2)



3)



4)

**Correct Answer:****Candidate Answer:** [NOT ANSWERED]**QID : 150 -**

A word is represented by only one set of numbers as given in any one of the alternatives. The sets of numbers given in the alternatives are represented by two classes of alphabets as shown in the given two matrices. The columns and rows of Matrix-I are numbered from 0 to 4 and that of Matrix-II are numbered from 5 to 9. A letter from these matrices can be represented first by its row and next by its column, for example 'I' can be represented by 21, 42 etc and 'Y' can be represented by 69, 89 etc. Similarly, you have to identify the set for the word 'TENS'.

एक शब्द केवल एक संख्या-समूह द्वारा दर्शाया गया है, जैसा कि विकल्पों में से किसी एक में दिया गया है। विकल्पों में दिए गए संख्या-समूह अक्षरों के दो वर्गों द्वारा दर्शाए गए हैं, जैसा कि दिए गए दो आव्यूहों में हैं। आव्यूह-I के स्तम्भ और पंक्ति की संख्या 0 से 4 और आव्यूह-II की 5 से 9 है। इन आव्यूहों से एक अक्षर को पहले उसकी पंक्ति और बाद में स्तम्भ संख्या द्वारा दर्शाया जा सकता है। उदाहरण के लिए 'I' को 21, 42 आदि द्वारा दर्शाया जा सकता है तथा 'Y' को 69, 89 आदि द्वारा दर्शाया जा सकता है। इसी तरह से आपको प्रश्न में दिए शब्द 'TENS' के लिए समूह को पहचानना है।

Matrix I आव्यूह - I						Matrix II आव्यूह - II					
	0	1	2	3	4		5	6	7	8	9
0	L	G	J	G	B	5	V	U	W	X	X
1	F	M	H	B	E	6	Q	S	P	V	Y
2	E	I	D	F	H	7	V	Q	V	S	O
3	J	K	B	M	D	8	N	P	U	N	Y
4	L	M	I	A	M	9	T	W	X	U	V

Options:

1) 95,14,85,78

2) 10,56,24,99

3) 20,96,41,69

4) 24,77,22,78

Correct Answer: 95,14,85,78

Candidate Answer: 95,14,85,78

QID : 151 - Simplify: $b - [b - (a + b) - \{b - (b - a - b)\} + 2a]$

सरल बनाएं: $b - [b - (a + b) - \{b - (b - a - b)\} + 2a]$

Options:

1) $2b$

2) 1

3) 0

4) $3b$

Correct Answer: 0

Candidate Answer: $2b$

QID : 152 - Simplify: $(213 \times 213 + 187 \times 187)$

सरल बनाएं: $(213 \times 213 + 187 \times 187)$

Options:

1) 80338

2) 80438

3) 60338

4) 60438

Correct Answer: 80338

Candidate Answer: 80338

QID : 153 -

What is the remainder, when $4x^4 + 10x^3 - 20x^2 + 90$ is divided by $(x + 2)$?

जब $4x^4 + 10x^3 - 20x^2 + 90$ को $(x + 2)$ से विभाजित किया जाता है, तो शेष क्या है?

Options:

1) 0

2) -6

3) 45

4) -90

Correct Answer: -6

Candidate Answer: -90

QID : 154 -

What will be the value of xy , if $x^2 + y^2 = 45$ and $x - y = 5$?

xy का मान क्या होगा, अगर $x^2 + y^2 = 45$ और $x - y = 5$ है ?

Options:

1) 10

2) 15

3) 20

4) 25

Correct Answer: 10

Candidate Answer: 10

QID : 155 - The smallest angle of a triangle is 40° less than the largest angle. If the largest angle is 80° , then find the third angle of the triangle.

त्रिकोण का सबसे छोटा कोण, सबसे बड़े कोण से 40^0 कम है। यदि सबसे बड़ा कोण 80^0 है, तो त्रिकोण का तीसरा कोण बताइये।

Options:

- 1) 40^0
- 2) 90^0
- 3) 80^0
- 4) 60^0

Correct Answer: 60^0

Candidate Answer: 60^0

QID : 156 - If the line DE is drawn parallel to the base BC of a triangle ABC by intersecting the other two sides, then which of the following is the CORRECT equation for this case.

यदि रेखा DE को त्रिभुज ABC के आधार BC के समानांतर खींचकर, दूसरी दो भुजाएं को अन्तर्विभाजित कर दिया जाता है, तो निम्न में से कौनसी इस मामले के लिए सही समीकरण है।

Options:

- 1) $AB/DB=AC/EC$
- 2) $AD/AB=DB/EC$
- 3) $AD/DB=EC/AE$
- 4) $AD/DB=AE/EC$

Correct Answer: $AD/DB=AE/EC$

Candidate Answer: $AD/DB=AE/EC$

QID : 157 - Price of 1 kg of sugar is increased by 30% and the increase is of Rs 48. What is the new price (in Rs) of the sugar per kg?

1 कि.ग्रा. चीनी के मूल्य को 30% से बढ़ाया गया है तथा वृद्धि 48 रु की हुई है। प्रति कि.ग्रा. चीनी का नया मूल्य (रु में) क्या है?

Options:

- 1) 178
- 2) 160
- 3) 208
- 4) 216

Correct Answer: 208

Candidate Answer: 208

QID : 158 - The sum of three numbers is 67. If the ratio of the first number to the second number is 3 : 5 and that of the second number to the third number is 4 : 7, then what is the second number?

तीन संख्याओं का योग 67 है। यदि पहली संख्या का दूसरी संख्या से अनुपात 3 : 5 है तथा दूसरी संख्या का तीसरी संख्या से अनुपात 4 : 7 है, तो दूसरी संख्या क्या है?

Options:

- 1) 20
- 2) 24
- 3) 18
- 4) 16

Correct Answer: 20

Candidate Answer: 20

QID : 159 - A started a business with the capital of Rs 1800. After 4 months B joined with Rs 3600. 6 months after the business started C joined with Rs 1200. If the total profit earned at the end of the year is Rs 1760, then what is the share (in Rs) of A?

A ने 1800 रु की पूँजी के साथ एक व्यापार शुरू किया। 4 महीने पश्चात B, 3600 रु के साथ शामिल होता है। व्यापार शुरू होने के 6 महीने पश्चात C, 1200 रु के साथ शामिल होता है। यदि वर्ष के अंत में कुल लाभ 1760 रु कमाया गया है, तो A का हिस्सा (रु में) क्या है?

Options:

- 1) 540
- 2) 660
- 3) 840
- 4) 720

Correct Answer: 660

Candidate Answer: 660

QID : 160 - The average of 8 consecutive integers is 23. What is the average of first three integers?

8 क्रमागत पूर्णांकों का औसत 23/2 है। प्रथम तीन पूर्णांकों का औसत क्या है?

Options:

- 1) 9
- 2) 19/2
- 3) 8
- 4) 10

Correct Answer: 9

Candidate Answer: [NOT ANSWERED]

QID : 161 - Simple interest on a sum for eight months at 6% per annum is Rs 340.What is the value (in Rs) of sum?

एक राशि पर 6% प्रतिवर्ष की दर से आठ महीनो का साधारण ब्याज 340 रु है। राशि का मान (रु में) क्या है?

Options:

- 1) 8500
- 2) 9500
- 3) 8000
- 4) 6800

Correct Answer: 8500

Candidate Answer: 8500

QID : 162 - A trader sells wire and gains 60% on the cost price. What will be the profit percentage on selling price?

एक विक्रेता तार बेचता है तथा क्रय मूल्य पर 60% लाभ कमाता है। विक्रय मूल्य पर लाभ प्रतिशत क्या होगा?

Options:

- 1) 33.33
- 2) 40
- 3) 60
- 4) 37.5

Correct Answer: 37.5

Candidate Answer: 37.5

QID : 163 - Marked price of an article is Rs 520 and selling price is Rs 384.8. What is the discount percentage?

एक वस्तु का अंकित मूल्य 520 रु है तथा विक्रय मूल्य 384.8 रु है। छूट प्रतिशत क्या है?

Options:

- 1) 26
- 2) 24.42
- 3) 35.13
- 4) 29

Correct Answer: 26

Candidate Answer: 24.42

QID : 164 -

What is the value of

$$\frac{5}{\sqrt{2}+1} + \frac{5}{\sqrt{3}+\sqrt{2}} + \frac{5}{\sqrt{4}+\sqrt{3}} + \dots + \frac{5}{\sqrt{121}+\sqrt{120}} ?$$

$$\frac{5}{\sqrt{2}+1} + \frac{5}{\sqrt{3}+\sqrt{2}} + \frac{5}{\sqrt{4}+\sqrt{3}} + \dots + \frac{5}{\sqrt{121}+\sqrt{120}} \text{ का}$$

मान क्या है?

Options:

1) 25

2) 50

3) 100

4) 75

Correct Answer: 50**Candidate Answer:** 100

QID : 165 - Ram and Shyam undertook a work for Rs 5600. Ram alone can do the work in 5 days and Shyam alone can do the work in 9 days. If they work together, then what will be the difference (in Rs.) in the amount they receive?

राम तथा श्याम ने एक कार्य को 5600 रु में लिया। राम अकेला उस कार्य को 5 दिनों में तथा श्याम अकेला उसी कार्य को 9 दिनों में कर सकता है। यदि दोनों साथ कार्य करें, तो दोनों को मिलने वाली राशि का अंतर (रु में) क्या होगा?

Options:

1) 1800

2) 2400

3) 2200

4) 1600

Correct Answer: 1600**Candidate Answer:** 1600

QID : 166 - A man covered a certain distance by a train at the speed of 40 km/hr and covers the same distance back by walking at the speed of 8 km/hr. If the whole journey took 12 hours, then what is the one side distance (in km)?

एक व्यक्ति 40 कि.मी./घंटा की गति से चलने वाली रेलगाड़ी द्वारा एक निश्चित दूरी तय करता है तथा वही दूरी वह वापसी में 8 कि.मी./घंटा की गति से पैदल चलकर तय करता है। यदि पूरी यात्रा में 12 घंटे लगते हैं, तो एक तरफ की दूरी (कि.मी. में) क्या है?

Options:

1) 80

2) 60

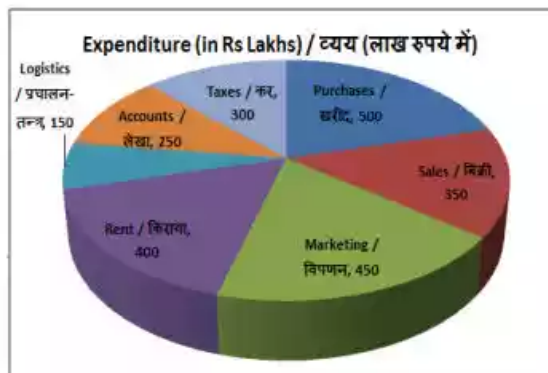
3) 90

4) 100

Correct Answer: 80**Candidate Answer:** 80**QID : 167** -

The pie chart shows the breakup of expenditure of a trading company for the year 2017. Study the diagram and answer the following questions.

यह पाइ चार्ट वर्ष 2017 के लिए एक ट्रेडिंग कंपनी के व्यय का विभाजन प्रदर्शित करता है। इस आरेख का अध्ययन करें और निम्नलिखित प्रश्नों के उत्तर दें।



The second highest expenditure is for which item?

दूसरा सर्वाधिक व्यय किस मद पर किया जाता है?

Options:

- 1) Rent
किराया
- 2) Marketing
विपणन
- 3) Logistics
प्रचालन-तन्त्र
- 4) Accounts
लेखा

Correct Answer: Marketing

विपणन

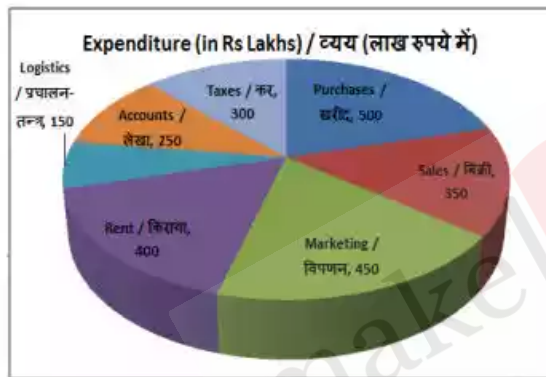
Candidate Answer: Marketing

विपणन

QID : 168 -

The pie chart shows the breakup of expenditure of a trading company for the year 2017. Study the diagram and answer the following questions.

यह पाइ चार्ट वर्ष 2017 के लिए एक ट्रेडिंग कंपनी के व्यय का विभाजन प्रदर्शित करता है। इस आरेख का अध्ययन करें और निम्नलिखित प्रश्नों के उत्तर दें।



What is the total expenditure (in Rs lakhs) ?

कुल व्यय (लाख रु में) क्या है?

Options:

- 1) 2200
- 2) 2400
- 3) 2100
- 4) 2000

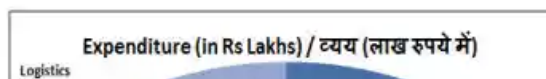
Correct Answer: 2400

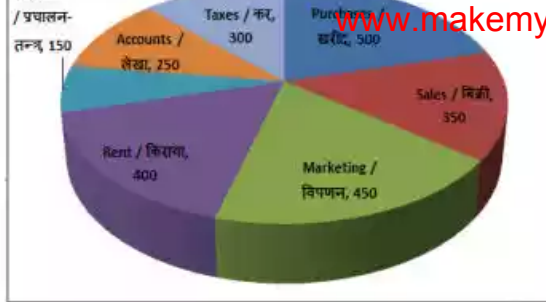
Candidate Answer: 2400

QID : 169 -

The pie chart shows the breakup of expenditure of a trading company for the year 2017. Study the diagram and answer the following questions.

यह पाइ चार्ट वर्ष 2017 के लिए एक ट्रेडिंग कंपनी के व्यय का विभाजन प्रदर्शित करता है। इस आरेख का अध्ययन करें और निम्नलिखित प्रश्नों के उत्तर दें।





The measure of the central angle of the sector representing Rent is _____ degrees.

किराया का प्रतिनिधित्व करने वाले क्षेत्र के केंद्रीय कोण का माप _____ डिग्री है।

Options:

- 1) 50
- 2) 60
- 3) 75
- 4) 40

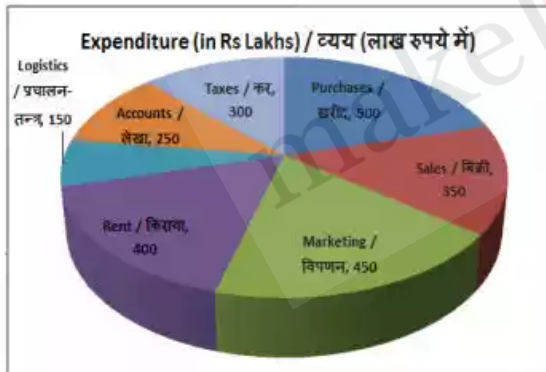
Correct Answer: 60

Candidate Answer: 60

QID : 170 -

The pie chart shows the breakup of expenditure of a trading company for the year 2017. Study the diagram and answer the following questions.

यह पाइ चार्ट वर्ष 2017 के लिए एक ट्रेडिंग कंपनी के व्यय का विभाजन प्रदर्शित करता है। इस आरेख का अध्ययन करें और निम्नलिखित प्रश्नों के उत्तर दें।



Expenditure on Sales and Marketing constitute what percent of total expenditure?

बिक्री और विपणन पर किया जाने वाला व्यय कुल व्यय का कितना प्रतिशत है?

Options:

- 1) 30%
- 2) 36%
- 3) 27.5%
- 4) 33.33%

Correct Answer: 33.33%

Candidate Answer: 33.33%

QID : 171 - The side of an equilateral triangle is 8 cm. Find its area (in cm^2).

एक समबाहु त्रिभुज की भुजा 8 सें.मी. है। इसका क्षेत्रफल (वर्ग सें.मी. में) ज्ञात करें।

Options:

- 1) $25\sqrt{3}$
- 2) $16\sqrt{2}$
- 3) $25\sqrt{2}$

3) $2\sqrt{2}$ 4) $16\sqrt{3}$ **Correct Answer:** $16\sqrt{3}$ **Candidate Answer:** $16\sqrt{3}$ **QID : 172** - The area of a circle is 346.5 cm^2 . Find its circumference (in cm).एक वृत्त का क्षेत्रफल 346.5 वर्ग सें.मी. है। इसकी परिधि (सें.मी. में) ज्ञात करें।**Options:**

1) 132

2) 38

3) 66

4) 76

Correct Answer: 66**Candidate Answer:** [NOT ANSWERED]**QID : 173** - Find the total surface area (in cm^2) of a cube of side 7.5 cm.

7.5 सें.मी. भुजा वाले एक घन के सतह का कुल क्षेत्रफल (वर्ग सें.मी. में) ज्ञात करें।

Options:

1) 364.5

2) 446

3) 337.5

4) 684

Correct Answer: 337.5**Candidate Answer:** 337.5**QID : 174** - What is the value of $(\tan 45^\circ + 1/\sqrt{2})$? $(\tan 45^\circ + 1/\sqrt{2})$ का मान क्या है?**Options:**1) $5/\sqrt{3}$ 2) $7/2\sqrt{3}$ 3) $(\sqrt{2}+1)/\sqrt{2}$ 4) $4/\sqrt{3}$ **Correct Answer:** $(\sqrt{2}+1)/\sqrt{2}$ **Candidate Answer:** $(\sqrt{2}+1)/\sqrt{2}$ **QID : 175** - ΔPQR is right angled at Q. If $\text{cosec} P = 17/15$, then what is the value of $\sin R$? ΔPQR में Q पर समकोण है। यदि $\text{cosec} P = 17/15$, तो $\sin R$ का मान क्या है?**Options:**1) $15/17$ 2) $8/17$ 3) $17/8$ 4) $17/15$ **Correct Answer:** $8/17$ **Candidate Answer:** $8/17$ **QID : 176** - "Global Competitiveness Report" is released by which of the following organization?

"ग्लोबल कॉम्पिटिवनेस रिपोर्ट" निम्नलिखित में किस संगठन द्वारा जारी की जाती है?

Options:

1) WTO

डब्ल्यूटीओ

2) WEF

डबल्यूईएफ

3) SAARC

सार्क

4) EU

ईयू

Correct Answer: WEF

डबल्यूईएफ

Candidate Answer: WTO

डब्ल्यूटीओ

QID : 177 - Economic planning in India is in

QID : 177 - Economic planning in India is in _____ में है।

Options:

1) Union List

संघ सूची

2) State list

राज्य सूची

3) Concurrent List

समवर्ती सूची

4) No option is correct.

कोई विकल्प सही नहीं है।

Correct Answer: Concurrent List

समवर्ती सूची

Candidate Answer: Concurrent List

समवर्ती सूची

QID : 178 - Which of the following indicates the circle of the Saranath Pillar?

सारनाथ स्तंभ का चक्र निम्न में से किसे इंगित करता है?

Options:

1) Law

कानून

2) Revolution

क्रांति

3) Progress

प्रगति

4) Religion

धर्म

Correct Answer: Progress

प्रगति

Candidate Answer: Progress

प्रगति

QID : 179 - Which of the following is related to the Tinkathiya Pratha?

तिनकठिया प्रथा का संबंध निम्न में से किस क्षेत्र से है?

Options:

1) Champaran

चंपारण

2) Kheda

खेड़ा

3) Bardoli

बारडोली

4) Darbhanga

दरभंगा

Correct Answer: Champaran

चंपारण

Candidate Answer: [NOT ANSWERED]

QID : 180 - The distance between the two latitudes is approximately _____.

दो अक्षांश रेखाओं के बीच की दूरी लगभग होती है _____।-

Options:

1) 111 miles

111 मील

2) 121 miles

121 मील

3) 111 km

111 किमी.

4) 121 km

121 किमी.

Correct Answer: 111 km

111 किमी.

Candidate Answer: 121 km

121 किमी.

QID : 181 - Which place is now known as 'White Water' in India?

वर्तमान में भारत का कौन-सा स्थान 'सफ़ेद पानी' के नाम से जाना जाता है?

Options:

- 1) Leh
लेह
- 2) Ladakh
लद्दाख
- 3) Kargil
कारगिल
- 4) Siachen
सियाचिन

Correct Answer: Siachen
सियाचिन

Candidate Answer: Siachen
सियाचिन

QID : 182 - Leela Samson is associated to which classical dance style?

लीला सैमसन का संबंध किस शास्त्रीय नृत्य शैली से है?

Options:

- 1) Bharatanatyam
भरतनाट्यम
- 2) Kathakali
कथकली
- 3) Kuchipudi
कुचिपुड़ी
- 4) Odissi
ओडिसी

Correct Answer: Bharatanatyam
भरतनाट्यम

Candidate Answer: Kuchipudi
कुचिपुड़ी

QID : 183 - At which place a joint military exercise 'Yudh Abhyas' was held in September 2017 between United States and Indian army?

सितंबर 2017 में किस स्थान पर 'युद्ध अभ्यास' के नाम से एक संयुक्त सैन्य अभ्यास अमेरिका एवं भारतीय सैनिकों के बीच हुआ था?

Options:

- 1) Pune
पुणे
- 2) Newyork
न्यूयार्क
- 3) Vishakhapatnam
विशाखापत्तनम
- 4) Washington
वाशिंगटन

Correct Answer: Washington
वाशिंगटन

Candidate Answer: Pune
पुणे

QID : 184 - Which Bollywood actor was honoured with the 24th Crystal Award at the world Economic Forum meeting in January 2018?

किस बॉलीवुड अभिनेता को जनवरी 2018 में विश्व आर्थिक मंच पर 24-वें क्रिस्टल अवार्ड से सम्मानित किया गया?

Options:

- 1) Shahrukh Khan
शाहरुख खान
- 2) Aamir Khan
आमिर खान
- 3) Salman Khan
सलमान खान
- 4) Saif Ali Khan
सैफ अली खान

Correct Answer: Shahrukh Khan
शाहरुख खान

Candidate Answer: Shahrukh Khan
शाहरुख खान

QID : 185 - The saffron-orange colour of Bhutan's national flag symbolizes

भूटान के राष्ट्रीय ध्वज का केसरिया-नारंगी रंग _____ का प्रतीक है।

Options:

- 1) the authority of the king
राजा के अधिकार
- 2) the secular power of the country
देश की धर्मनिरपेक्ष शक्ति
- 3) the practice of religion
धर्म साधना
- 4) the purity of the country
देश की शुचिता

Correct Answer: the practice of religion

धर्म साधना

Candidate Answer: the practice of religion

धर्म साधना

QID : 186 - How CNG is a cleaner fuel?

- I. It produces oxides of Sulphur and Nitrogen in very small amounts.
- II. It makes environment less polluted.
- III. It emits less greenhouse gases.

सीएनजी एक स्वच्छ ईंधन कैसे है?

- I. यह सल्फर तथा नाइट्रोजन के ऑक्साइड का उत्पादन अल्प मात्रा में करती है।
- II. यह वातावरण को कम प्रदूषित बनाती है।
- III. यह कम ग्रीनहाउस गैसों उत्सर्जित करती है।

Options:

- 1) Only I and II
केवल I तथा II
- 2) Only II and III
केवल II तथा III
- 3) Only I and III
केवल I तथा III
- 4) All I, II and III
I, II तथा III सभी

Correct Answer: All I, II and III

I, II तथा III सभी

Candidate Answer: All I, II and III

I, II तथा III सभी

QID : 187 - In a compound the elements are always present in definite proportions by _____.

किसी भी यौगिक में तत्व सदैव एक निश्चित _____ के अनुपात में विद्यमान होते हैं।

Options:

- 1) mass
द्रव्यमान
- 2) volume
आयतन
- 3) size
आकार
- 4) No option is correct.
कोई विकल्प सही नहीं है।

Correct Answer: mass

द्रव्यमान

Candidate Answer: mass

द्रव्यमान

QID : 188 - The Chief Election Commissioner of India holds the office for _____.

भारत के मुख्य चुनाव आयुक्त _____ के लिए कार्यालय संभालते हैं।

Options:

- 1) 60 years of age or for six years, whichever early
60 वर्ष आयु अथवा छह वर्षों के लिए, जो भी पहले हो
- 2) 65 years of age or for six years, whichever early
65 वर्ष आयु अथवा छह वर्षों के लिए, जो भी पहले हो
- 3) 70 year of age or for six years, whichever early
70 वर्ष आयु अथवा छह वर्षों के लिए, जो भी पहले हो

4) 55 year of age or for five years, whichever early

55 वर्ष आयु अथवा पाँच वर्षों के लिए, जो भी पहले हो

Correct Answer: 65 years of age or for six years, whichever early

65 वर्ष आयु अथवा छह वर्षों के लिए, जो भी पहले हो

Candidate Answer: 65 years of age or for six years, whichever early

65 वर्ष आयु अथवा छह वर्षों के लिए, जो भी पहले हो

QID : 189 - The Attorney General of India is the _____ of the Government of India.

भारत के महान्यायवादी भारत सरकार के _____ है।

Options:

1) Chief Account Officer

मुख्य खाता अधिकारी

2) Chief Law Officer

मुख्य कानून अधिकारी

3) Chief Audit Officer

मुख्य ऑडिट अधिकारी

4) Chief Election Officer

मुख्य चुनाव अधिकारी

Correct Answer: Chief Law Officer

मुख्य कानून अधिकारी

Candidate Answer: Chief Audit Officer

मुख्य ऑडिट अधिकारी

QID : 190 - Which of the following is a **CORRECT** relation of length of small intestines of an herbivore and a carnivore?

निम्नलिखित में से कौन सा एक शाकाहारी तथा एक मांसाहारी के क्षुद्रांतों की लंबाई का **सही** संबंध है?

Options:

1) Herbivore = Carnivore

शाकाहारी = मांसाहारी

2) Herbivore < Carnivore

शाकाहारी < मांसाहारी

3) Herbivore > Carnivore

शाकाहारी > मांसाहारी

4) No option is correct.

कोई विकल्प सही नहीं है।

Correct Answer: Herbivore > Carnivore

शाकाहारी > मांसाहारी

Candidate Answer: Herbivore < Carnivore

शाकाहारी < मांसाहारी

QID : 191 - Limbs of frog, lizard, bird and human are example of _____ organs.

मेंढक, छिपकली, पक्षी तथा मानव के पाद _____ अंग के उदाहरण हैं।

Options:

1) Homogenous

समघर्मी

2) Heterogeneous

विषमरूप

3) Analogous

समरूप

4) Homologous

समजात

Correct Answer: Homologous

समजात

Candidate Answer: Heterogeneous

विषमरूप

QID : 192 - Energy Efficiency Services Limited (EESL) launched UJALA scheme in which country in September, 2017?

ऊर्जा दक्षता सेवा सीमित (ईईएसएल) ने सितम्बर 2017 में, किस देश में उजाला (यूजेएएलए) योजना का लोकार्पण किया?

Options:

1) Indonesia

इंडोनेशिया

2) Malaysia

मलेशिया

3) Maldives

मालदीव

4) Australia

ऑस्ट्रेलिया

Correct Answer: Malaysia

मलेशिया

Candidate Answer: [NOT ANSWERED]**QID : 193** - India's fastest and first multi - petaflops supercomputer named Pratyush was unveiled at ____.

भारत का सबसे तेज़ तथा पहला बहु-पेटाफ्लॉप्स प्रत्युष नामक सुपरकम्प्यूटर _____ में अनावरित हुआ था।

Options:

1) Indian Institute of Science, Bangalore

भारतीय विज्ञान संस्थान, बैंगलोर

2) Indian Space Research Organisation, Bangalore

भारतीय अंतरिक्ष अनुसंधान संगठन, बैंगलोर

3) Indian Institute of Tropical Meteorology, Pune

भारतीय उष्णकटिबंधीय मौसम विज्ञान संस्थान, पुणे

4) Indian Institute of Technology, New Delhi

भारतीय प्रौद्योगिकी संस्थान, नई दिल्ली

Correct Answer: Indian Institute of Tropical Meteorology, Pune

भारतीय उष्णकटिबंधीय मौसम विज्ञान संस्थान, पुणे

Candidate Answer: Indian Institute of Science, Bangalore

भारतीय विज्ञान संस्थान, बैंगलोर

QID : 194 - In December 2017, SEBI raised the investment limit for FPIs in central government securities to over ____ from January 2018.

दिसम्बर 2017 में, सेबी ने केंद्रीय सरकारी प्रतिभूतियों में एफपीआई के लिए जनवरी 2018 से निवेश की सीमा _____ तक बढ़ा दी।

Options:

1) Rs 1.91 lakh crore

1.91 लाख करोड़ रु

2) Rs 3.91 lakh crore

3.91 लाख करोड़ रु

3) Rs 5.91 lakh crore

5.91 लाख करोड़ रु

4) Rs 0.91 lakh crore

0.91 लाख करोड़ रु

Correct Answer: Rs 1.91 lakh crore

1.91 लाख करोड़ रु

Candidate Answer: Rs 5.91 lakh crore

5.91 लाख करोड़ रु

QID : 195 - On 8 June 2017, Law Ministry cleared the Prevention of Cruelty to Animals (Karnataka Amendment) Bill, 2017. It will help in legalising ____.

8 जून 2017 को, कानून मंत्रालय ने पशुओं से क्रूरता की रोकथाम (कर्नाटक संशोधन) विधेयक, 2017 को मंजूरी दे दी। यह _____ को वैध बनाने में मदद करेगा।

Options:

1) Jalikattu

जलीकट्टू

2) Cockfight

मुर्गों की लड़ाई

3) Bailgadi Shariat

बैलगाड़ी शरीअत

4) Kambala

कम्बाला

Correct Answer: Kambala

कम्बाला

Candidate Answer: Jalikattu

जलीकट्टू

QID : 196 - What is the resistance (in Ω) of an electrical component if a current of 0.1 A passes through it on application of 5 V of potential difference across it?किसी विद्युतीय पदार्थ का प्रतिरोधक (Ω में) कितना होगा यदि इसमें से 0.1 A धारा प्रवाहित होती है तथा विभवान्तर 5V है?**Options:**

1) 0.5

2) 100

3) 50

4) 1

Correct Answer: 50**Candidate Answer:** [NOT ANSWERED]**QID : 197** - The motion of a freely falling body is an example of _____ accelerated motion.

स्वतंत्र रूप से गिर रही एक वस्तु की गति ____ त्वरित गति का उदाहरण है।

Options:

1) non-uniformly

असमान

2) uniformly

एकसमान

3) uniquely

विलक्षण

4) specially

विशेष

Correct Answer: uniformly

एकसमान

Candidate Answer: uniformly

एकसमान

QID : 198 - Increased wind speed is accompanied by a reduced air _____.

पवन का वेग बढ़ने पर वायु का ____ कम हो जाता है।

Options:

1) humidity

आर्द्रता

2) pressure

दाब

3) density

घनत्व

4) aridity

शुष्कता

Correct Answer: pressure

दाब

Candidate Answer: aridity

शुष्कता

QID : 199 - Which of the statements given below are correct?

A) In 2017, Sebastian Vettel raced in Formula One for Ferrari.

B) Grigor Dimitrov won the Tennis 2017 Cincinnati Masters Men's Singles.

C) In 2017 Pro Kabaddi League, Nitin Tomar played for Jaipur Pink Panthers.

निम्नलिखित में से कौन सा कथन सत्य है?

A) वर्ष 2017 में सेबस्तियन वेट्टल ने फेरारी के लिए फ़ॉर्मूला वन में हिस्सा लिया।

B) ग्रिगोर दिमित्रोव ने टेनिस 2017 सिनसिनाटी मास्टर्स मेन्स सिंगल्स जीता।

C) वर्ष 2017 की प्रो कबड्डी लीग में नितिन तोमर जयपुर पिंक पैंथर्स के लिए खेले।

Options:

1) A and B

A और B

2) A and C

A और C

3) B and C

B और C

4) None of these

इनमें से कोई नहीं

Correct Answer: A and B

A और B

Candidate Answer: [NOT ANSWERED]**QID : 200** - In Microsoft Word, _____ are small dots, squares, dashes or graphics that are often seen before the text.

माइक्रोसॉफ्ट वर्ड में, ____ छोटे बिंदु, वर्ग, डैश या ग्राफिक्स होते हैं जो प्रायः पाठ्य से पहले दिखाई देते हैं।

Options:

1) Indentation

उत्तरेक्षण

इन्डन्टेशन

2) Bullets

बुलेट्स

3) Numbering

संख्यांकन (नंबरिंग)

4) Tabs

टैब

Correct Answer: Bullets

बुलेट्स

Candidate Answer: [NOT ANSWERED]

make  exam